

[Skip to content](#)

## ReadLearnExcel


Menu

# HBSE CLASS 12 GEOGRAPHY PYQs & Quick Revision 2026

Education / By Principal Sir, M.S.Yadav / 25 March 2026

HBSE CLASS 12 GEOGRAPHY PYQs & Quick Revision 2026

## Table of Contents

 100 HBSE CLASS 12 GEOGRAPHY (2021 SET A – OBJECTIVE PAPER) FULL SOLUTION

  Q1–30 FULL ANSWER KEY (NO QUESTION LEFT)

- ◆ Q1–10 (MCQs)
- ◆ Q11–20
- ◆ Q21–30

 100 HBSE CLASS 12 GEOGRAPHY 2025 (SET A) – FULL PAPER SOLUTION

  PART – A (OBJECTIVE TYPE) (Q1–10)

- Q11. मानव भूगोल के उप-क्षेत्र
- Q12. संभाववाद क्या है?
- Q13. स्वच्छंद उद्योग (Footloose Industry)
- Q14. चिकित्सा पर्यटन के उभरते देश
- Q15. गैरीसन नगर क्या हैं?
- Q16. पृष्ठ प्रदेश (Hinterland)
- Q17. जनांकिकीय संक्रमण के तीन चरण

- Q18. रोपण कृषि की विशेषताएँ
- Q19. जल संरक्षण क्यों आवश्यक है? उपाय
- Q20. भाषा परिवारों का वितरण
- Q21. भारत के विदेशी व्यापार की विशेषताएँ
- Q22. वायु प्रदूषण के स्रोत
- Q23. मानव विकास के चार स्तंभ
- Q24. स्वेज नहर मार्ग
- Q25. इंदिरा गांधी नहर क्षेत्र में सतत विकास के उपाय
- Q1. मानव भूगोल की परिभाषा लिखिए।
- Q2. नियतिवाद क्या है?
- Q3. संभाववाद क्या है?
- Q4. नव-नियतिवाद क्या है?
- Q5. HDI क्या है?
- Q6. HDI के घटक लिखिए।
- Q7. जनसंख्या घनत्व क्या है?
- Q8. जनांकिकीय संक्रमण क्या है?
- Q9. जीवन प्रत्याशा क्या है?
- Q10. प्रवास क्या है?
- Q11. नगरीकरण क्या है?
- Q12. नगरीकरण के दो प्रभाव लिखिए।
- Q13. सघन बस्ती क्या है?
- Q14. प्रकीर्ण बस्ती क्या है?
- Q15. रेखीय बस्ती क्या है?
- Q16. ग्रामीण बस्ती की विशेषताएँ लिखिए।
- Q17. नगरीय बस्ती की विशेषताएँ लिखिए।
- Q18. जनसंख्या वितरण को प्रभावित करने वाले कारक लिखिए।
- Q19. जनसंख्या पिरामिड के प्रकार लिखिए।
- Q20. मलिन बस्ती क्या है?
- Q21. जीविका कृषि क्या है?

- Q22. वाणिज्य कृषि क्या है?
- Q23. रोपण कृषि क्या है?
- Q24. मिश्रित कृषि क्या है?
- Q25. शिफ्टिंग कृषि क्या है?
- Q26. चावल की कृषि की दशाएँ लिखिए।
- Q27. गेहूँ की कृषि की दशाएँ लिखिए।
- Q28. हरित क्रांति क्या है?
- Q29. पुष्पोत्पादन क्या है?
- Q30. कृषि के आधुनिकीकरण के उपाय लिखिए।
- Q31. उद्योग क्या है?
- Q32. उद्योगों का वर्गीकरण लिखिए।
- Q33. तृतीयक क्रियाकलाप क्या हैं?
- Q34. चतुर्थक क्रियाकलाप क्या हैं?
- Q35. औद्योगिक स्थान निर्धारण के कारक लिखिए।
- Q36. संसाधन क्या हैं?
- Q37. नवीकरणीय संसाधन क्या हैं?
- Q38. अनवीकरणीय संसाधन क्या हैं?
- Q39. औद्योगिक प्रदूषण के प्रभाव लिखिए।
- Q40. ITDP क्या है?
- Q41. परिवहन क्या है?
- Q42. परिवहन के प्रकार लिखिए।
- Q43. जल परिवहन के लाभ लिखिए।
- Q44. स्वेज नहर का महत्व लिखिए।
- Q45. अंतरराष्ट्रीय व्यापार क्या है?
- Q46. व्यापार के आधार लिखिए।
- Q47. सेवा क्षेत्र का महत्व लिखिए।
- Q48. जनगणना क्या है?
- Q49. 'भूरा हीरा' किसे कहा जाता है?
- Q50. संतुलित विकास क्यों आवश्यक है?

Q1. मानव भूगोल के प्रमुख उपागमों का वर्णन कीजिए।

✍ उत्तर:

Q2. मानव विकास सूचकांक (HDI) की व्याख्या कीजिए।

✍ उत्तर:

Q3. जनांकिकीय संक्रमण के चरणों का वर्णन कीजिए।

✍ उत्तर:

Q4. जनसंख्या वितरण को प्रभावित करने वाले कारकों की व्याख्या कीजिए।

✍ उत्तर:

Q5. जनसंख्या पिरामिड के प्रकारों का वर्णन कीजिए।

✍ उत्तर:

Q6. मानव विकास के स्तम्भों का वर्णन कीजिए।

✍ उत्तर:

Q7. ग्रामीण और नगरीय बस्तियों में अंतर स्पष्ट कीजिए।

✍ उत्तर:

Q8. नगरीकरण के कारण और प्रभाव लिखिए।

✍ उत्तर:

Q9. बस्तियों के प्रकारों का वर्णन कीजिए।

✍ उत्तर:

Q10. मलिन बस्तियों की समस्याओं का वर्णन कीजिए।

✍ उत्तर:

Q11. रोपण कृषि की विशेषताओं का वर्णन कीजिए।

✍ उत्तर:

Q12. कृषि के प्रकारों का वर्णन कीजिए।

✍ उत्तर:

Q13. चावल की कृषि की दशाएँ बताइए।

✍ उत्तर:

Q14. कृषि के आधुनिकीकरण के उपाय लिखिए।

✍ उत्तर:

Q15. हरित क्रांति के प्रभाव लिखिए।

✍ उत्तर:

Q16. औद्योगिक स्थान निर्धारण के कारकों की व्याख्या कीजिए।

✍ उत्तर:

Q17. उद्योगों का वर्गीकरण कीजिए।

✍ उत्तर:

Q18. तृतीयक और चतुर्थक क्रियाकलापों में अंतर लिखिए।

✍ उत्तर:

Q19. संसाधनों के प्रकारों का वर्णन कीजिए।

✍ उत्तर:

Q20. औद्योगिक प्रदूषण के प्रभाव और नियंत्रण लिखिए।

✍ उत्तर:

Q21. ऊर्जा के स्रोतों का वर्गीकरण कीजिए।

✍ उत्तर:

Q22. ITDP कार्यक्रम की व्याख्या कीजिए।

✍ उत्तर:

Q23. परिवहन के प्रकार और महत्व लिखिए।

✍ उत्तर:

Q24. स्वेज नहर का महत्व लिखिए।

✍ उत्तर:

Q25. अंतरराष्ट्रीय व्यापार की विशेषताएँ लिखिए।

✍ उत्तर:

Q26. व्यापार के आधारों की व्याख्या कीजिए।

✍ उत्तर:

Q27. सेवा क्षेत्र का महत्व लिखिए।

✍ उत्तर:

Q28. पर्यटन उद्योग का महत्व लिखिए।







✍ उत्तर:


Q29. जल परिवहन के लाभ और हानियाँ लिखिए।

✍ उत्तर:

Q30. संचार के साधनों का महत्व लिखिए।




 उत्तर:

-  HUMAN GEOGRAPHY (1–10)
-  POPULATION & SETTLEMENT (11–20)
-  AGRICULTURE (21–30)
-  INDUSTRY & RESOURCES (31–35)
-  TRANSPORT & TRADE (36–40)
-  INDIA MAP (MOST REPEATED)

 आपको याद रखने हैं:

-  WORLD MAP (IMPORTANT)


 याद करें:

-  HBSE CLASS 12 GEOGRAPHY (2021 – SET B)
-  FULL SOLUTION (हिन्दी में – Best Explanation)
-  SECTION A (Q1–Q11 MCQs)

- Q1. नव-नियतिवाद का प्रतिपादन किसने किया?
- Q2. औपनिवेशिक काल में मानव भूगोल में कौन-सा उपागम अपनाया गया?
- Q3. उच्च विकास सूचकांक का स्कोर क्या है?
- Q4. किस महाद्वीप में जनसंख्या वृद्धि दर सर्वाधिक है?
- Q5. निम्न में से कौन-सा विरल जनसंख्या क्षेत्र नहीं है?
- Q6. विकास का सर्वोत्तम वर्णन क्या है?
- Q7. कौन-सी कृषि एकल कृषि नहीं है?
- Q8. तृतीयक क्रियाकलाप किस पर निर्भर हैं?
- Q9. दक्षिण अमेरिका का सबसे अधिक जनसंख्या वाला शहर?
- Q10. भारत में शहरी क्षेत्र की न्यूनतम जनसंख्या?
- Q11. विकासशील देशों में सामाजिक ढांचे के लिए कौन-सा संसाधन जरूरी है?

 QUICK REVISION TABLE

 EXAM WRITING TIP (Principal Sir Style)

 SECTION A (Q12–23 MCQs)

- Q12. भारत में सबसे बड़ा भाषा समूह कौन-सा है?
- Q13. जनसंख्या वृद्धि का प्रमुख कारण क्या है?
- Q14. जनसंख्या का घनत्व किससे मापा जाता है?
- Q15. ग्रामीण बस्तियों का प्रमुख कार्य क्या है?
- Q16. परिवहन का सबसे सस्ता साधन कौन-सा है?
- Q17. IT उद्योग किस प्रकार का उद्योग है?
- Q18. विश्व का सबसे बड़ा बंदरगाह कौन-सा है?
- Q19. औद्योगिक स्थान निर्धारण का प्रमुख कारक क्या है?
- Q20. हरित क्रांति का मुख्य उद्देश्य क्या था?
- Q21. भारत में सबसे अधिक जनसंख्या वाला राज्य?
- Q22. जनसंख्या पिरामिड क्या दर्शाता है?
- Q23. शहरीकरण का मुख्य कारण?

 QUICK TABLE (Q1-23)

- Q24. जनसंख्या वितरण को प्रभावित करने वाले कारक लिखिए।
- Q25. मानव विकास सूचकांक (HDI) क्या है?
- Q26. नगरीकरण क्या है?
- Q27. परिवहन का महत्व बताइए।
- Q28. कृषि के प्रकार लिखिए।
- Q29. उद्योगों का वर्गीकरण लिखिए।
- Q30. संसाधन क्या होते हैं?

 SECTION B (SHORT ANSWER) – 2/3 MARKS

Q24. जनसंख्या वितरण को प्रभावित करने वाले कारक लिखिए।

उत्तर:

Q25. मानव विकास सूचकांक (HDI) क्या है?

उत्तर:

इसके मुख्य घटक:

Q26. नगरीकरण क्या है?

उत्तर:

कारण:

Q27. परिवहन का महत्व बताइए।

उत्तर:

Q28. कृषि के प्रकार लिखिए।

उत्तर:

Q29. उद्योगों का वर्गीकरण लिखिए।

उत्तर:

Q30. संसाधन क्या होते हैं?

उत्तर:

उदाहरण:

Q31. जनसंख्या वृद्धि के कारणों का वर्णन कीजिए।

उत्तर:

1. उच्च जन्म दर
2. मृत्यु दर में कमी
3. बेहतर जीवन स्तर
4. सामाजिक कारण

Q32. ग्रामीण और नगरीय बस्तियों में अंतर बताइए।

उत्तर:

Q33. परिवहन के साधनों का वर्गीकरण और महत्व लिखिए।

उत्तर:

परिवहन के प्रकार:

महत्व:

Q34. कृषि के प्रकारों का विस्तार से वर्णन कीजिए।

उत्तर:

1. जीविका कृषि:
2. व्यावसायिक कृषि:
3. मिश्रित कृषि:

Q35. औद्योगिक स्थान निर्धारण के कारकों की व्याख्या कीजिए।

उत्तर:

प्रमुख कारक:

Q36. मानव विकास के स्तरों का वर्णन कीजिए।

उत्तर:

1. उच्च विकास:
2. मध्यम विकास:
3. निम्न विकास:

 HBSE CLASS 12 GEOGRAPHY 2023 (SET A)

 FULL SOLUTION (TOPPER STYLE)

Q1. किस महाद्वीप में जनसंख्या वृद्धि दर सबसे अधिक है?


Q2. कौन-सी फसल रोपण फसल नहीं है?

Q3. उद्योगों में किस ऊर्जा स्रोत का उपयोग नहीं होता?

Q4. ऊर्जा स्रोत के पास कौन-सा उद्योग लगाया जाता है?

Q5. विश्व के अधिकांश महान पतन किस वर्ग में आते हैं?

Q6. 2011 की जनगणना के अनुसार सबसे अधिक शहरी जनसंख्या अनुपात वाला राज्य?

 MCQ QUICK TABLE

Q7. मानव भूगोल क्या है?

उत्तर:

Q8. जनसंख्या घनत्व क्या है?

उत्तर:

Q9. नगरीकरण के कारण लिखिए।

उत्तर:

Q10. परिवहन के प्रकार लिखिए।

उत्तर:

Q11. संसाधन क्या होते हैं?

उत्तर:

Q12. जनसंख्या वितरण को प्रभावित करने वाले कारक समझाइए।

उत्तर:

1. भौतिक कारक:
2. आर्थिक कारक:

3. सामाजिक कारक:

Q13. कृषि के प्रकारों का वर्णन कीजिए।

उत्तर:

1. जीविका कृषि
2. व्यावसायिक कृषि
3. मिश्रित कृषि

Q14. औद्योगिक स्थान निर्धारण के कारक लिखिए।


उत्तर:

Q15. परिवहन का महत्व बताइए।

उत्तर:

Q16. मानव विकास के स्तर समझाइए।

उत्तर:

 HBSE CLASS 12 GEOGRAPHY 2023 (SET A)

 FULL COMPLETE SOLUTION (EXAM READY)

Q1. सबसे अधिक जनसंख्या वृद्धि वाला महाद्वीप

Q2. रोपण फसल नहीं है

Q3. उद्योग में उपयोग नहीं होने वाला ऊर्जा स्रोत

Q4. ऊर्जा स्रोत के पास स्थापित उद्योग

Q5. महान पतन का वर्ग

Q6. 2011 में सबसे अधिक शहरी अनुपात वाला राज्य

Q7. मानव भूगोल की परिभाषा

Q8. जनसंख्या घनत्व

Q9. नगरीकरण के कारण

Q10. परिवहन के प्रकार

Q11. संसाधन

Q12. जनसंख्या वितरण के कारक

उत्तर:

Q13. कृषि के प्रकार

उत्तर:

Q14. औद्योगिक स्थान निर्धारण

उत्तर:

Q15. परिवहन का महत्व

उत्तर:

Q16. मानव विकास स्तर

उत्तर:

संभावित Map Questions:

 HBSE Class 12 Geography 2023 (Set A) – FULL EXACT PAPER SOLUTION

Q1. विश्व में सर्वाधिक जनसंख्या वृद्धि दर किस महाद्वीप में पाई जाती है?

उत्तर: (B) अफ्रीका

Q2. निम्नलिखित में से कौन-सी रोपण फसल नहीं है?

उत्तर: (C) गेहूँ

Q3. उद्योगों में किस ऊर्जा स्रोत का उपयोग नहीं होता?

उत्तर: (C) जल

Q4. निम्नलिखित में से कौन-सा उद्योग ऊर्जा स्रोत के निकट स्थापित होता है?

उत्तर: (B) एल्युमिनियम उद्योग

Q5. विश्व के अधिकांश महान पतन किस वर्ग में आते हैं?

उत्तर: (D) औद्योगिक

Q6. 2011 की जनगणना के अनुसार किस राज्य में शहरी जनसंख्या का अनुपात सबसे अधिक है?

उत्तर: (D) गोवा

Q7. मानव भूगोल क्या है?

उत्तर:

Q8. जनसंख्या घनत्व क्या है?

उत्तर:

Q9. नगरीकरण के दो कारण लिखिए।

उत्तर:

Q10. परिवहन के प्रकार लिखिए।

उत्तर:

Q11. संसाधन क्या होते हैं?

उत्तर:

Q12. जनसंख्या वितरण को प्रभावित करने वाले कारकों का वर्णन कीजिए।

उत्तर:

Q13. कृषि के प्रकारों का वर्णन कीजिए।

उत्तर:

Q14. औद्योगिक स्थान निर्धारण के कारकों को समझाइए।

उत्तर:

Q15. परिवहन का महत्व लिखिए।

उत्तर:

Q16. मानव विकास सूचकांक (HDI) की व्याख्या कीजिए।

उत्तर:

Q17. ग्रामीण और नगरीय बस्तियों में अंतर बताइए।

उत्तर:

Q18. मानचित्र पर निम्न दर्शाइए:

उत्तर:

 SECTION E (MAP WORK + FINAL QUESTIONS)

Q18. भारत के मानचित्र पर निम्नलिखित स्थानों को दर्शाइए:

(i) एक प्रमुख लौह-इस्पात उद्योग क्षेत्र

(ii) एक प्रमुख बंदरगाह

(iii) एक प्रमुख कोयला क्षेत्र

उत्तर:

Q19. विश्व के मानचित्र पर निम्नलिखित दर्शाइए:

(i) अधिक जनसंख्या घनत्व वाला क्षेत्र

(ii) एक प्रमुख व्यापार मार्ग

उत्तर:

Q20. (वैकल्पिक प्रश्न)

उत्तर:

सकारात्मक प्रभाव:

नकारात्मक प्रभाव:

Q21. (आंतरिक विकल्प / अतिरिक्त प्रश्न)

उत्तर:

1. स्वास्थ्य (Health)

2. शिक्षा (Education)

3. आय (Income)

Q22.

उत्तर:

प्रकार:

Q23.

उत्तर:

Q24.

उत्तर:

1. प्राकृतिक संसाधन

2. मानव निर्मित संसाधन

3. मानव संसाधन

👉 उत्तर:

✓ सकारात्मक प्रभाव:

✗ नकारात्मक प्रभाव:

🎯 निष्कर्ष:

👉 उत्तर:

🎯 निष्कर्ष:

👉 उत्तर:

प्रमुख उपाय:

🎯 निष्कर्ष:

✍️ उत्तर:

प्रभाव:

🎯 निष्कर्ष:

✍️ उत्तर:

प्रमुख मार्ग:

🎯 निष्कर्ष:

✍️ उत्तर:

महत्व:

🎯 निष्कर्ष:

🕒 HBSE CLASS 12 GEOGRAPHY 2024 (SET A)

100 FULL EXACT SOLUTION (START)

Q1. निम्नलिखित में से कौन-सा मानव भूगोल का उपागम नहीं है?

✍️ उत्तर: (A) क्षेत्रीय विविधता

Q2. निम्नलिखित कृषि के प्रकारों में से कौन-सा प्रकार कर्तन-दहन कृषि का प्रकार है?

✍️ उत्तर: (C) आदिकालीन निर्वाह कृषि

Q3. निम्नलिखित में से कौन-सा उद्योग ऊर्जा स्रोत के समीप लगाया जाता है?

✍️ उत्तर: (B) एल्युमिनियम उद्योग

Q4. संसार के अधिकांश महान पतन निम्न में से किस वर्ग में वर्गीकृत किए गए हैं?

✍️ उत्तर: (D) औद्योगिक पतन

Q5. वर्ष 2011 की जनगणना के अनुसार किस राज्य में नगरीय जनसंख्या अनुपात सर्वाधिक है?

✍️ उत्तर: (D) गोवा

Q6. निम्न में से कौन-सा सिंचित क्षेत्रों में भूमि क्षरण का मुख्य प्रकार है?

✍️ उत्तर: (B) मृदा लवणता

Q7. निम्नलिखित में से किस राज्य में भूमिगत जल उपयोग (%) इसके कुल भूमिगत जल संभावन से ज्यादा है?

✍️ उत्तर: (A) तमिलनाडु

Q8. भारत का सबसे बड़ा बॉक्साइट उत्पादक राज्य कौन-सा है?

✍ उत्तर: ओडिशा

Q9. इंदिरा गांधी नहर कौन-से बाँध से निकलती है?

✍ उत्तर: हरिके बाँध

Q10. कोलकाता पत्तन कौन-सी नदी पर अवस्थित है?

✍ उत्तर: हुगली नदी

Q11. मानव भूगोल को परिभाषित कीजिए।

✍ उत्तर:

Q12. जनसंख्या परिवर्तन के तीन घटक कौन-कौन से हैं?

✍ उत्तर:

Q13. उच्च प्रौद्योगिकी उद्योग क्या है?

✍ उत्तर:

Q14. जल परिवहन के क्या लाभ हैं?

✍ उत्तर:

Q15. नगरीय बस्तियों की कोई दो विशेषताएँ बताइए।

✍ उत्तर:

Q16. ऊर्जा के अपरंपरागत स्रोत कौन-से हैं?

✍ उत्तर:

Q17. मानव का प्राकृतिककरण क्या है?

✍ उत्तर:

Q18. मानव विकास अवधारणा के अन्तर्गत समानता और सतत पोषणीयता से क्या समझते हैं?

✍ उत्तर:

1. समानता (Equality):

2. सतत पोषणीयता (Sustainability):

Q19. चलवासी पशुचारण और वाणिज्य पशुपालन में अन्तर स्पष्ट कीजिए।

✍ उत्तर:

Q20. भारत में जल संसाधनों में तेजी से कमी आ रही है। इसके उत्तरदायी कारकों की विवेचना कीजिए।

✍ उत्तर:

Q21. बस्ती क्या है? सघन और प्रकीर्ण बस्तियों में अंतर स्पष्ट कीजिए।

✍ उत्तर:

Q22. इंदिरा गांधी नहर कमान क्षेत्र में सतत पोषणीय विकास को बढ़ावा देने के तीन उपाय सुझाइए।

✍ उत्तर:

Q23. भारत में जनसंख्या वृद्धि की प्रवृत्तियों की विवेचना कीजिए।

✍ उत्तर:

1. प्रारंभिक अवस्था
2. तीव्र वृद्धि
3. वर्तमान अवस्था

कारण:

Q24. चावल की कृषि की भौगोलिक दशाओं, उत्पादन और वितरण का वर्णन कीजिए।

✍ उत्तर:

भौगोलिक दशाएँ:

उत्पादन क्षेत्र:

वितरण:

Q25. अंतरराष्ट्रीय व्यापार क्या है? इसके आधारों का वर्णन कीजिए।

✍ उत्तर:

आधार:

Q26. (MAP WORK)

भारत के मानचित्र पर निम्नलिखित दर्शाइए:

🔥 FULL EXACT SOLUTION (START)

Q1. न्हावा सेवा पत्तन किस राज्य में स्थित है?

✍ उत्तर: (D) महाराष्ट्र

Q2. निम्न में से कौन-सा अम्ल वर्षा का एक कारण है?

✍ उत्तर: (B) वायु प्रदूषण

Q3. भूमि-निम्नीकरण का कौन-सा कारक नहीं है?

✍ उत्तर: (D) वन

Q4. शुष्क कृषि में निम्न में से कौन-सी फसल नहीं बोई जाती है?

✍ उत्तर: (D) गन्ना

Q5. आई.टी.डी.पी. निम्नलिखित में से किस संदर्भ में वर्णित है?

✍ उत्तर: (B) समन्वित जनजातीय विकास कार्यक्रम

Q6. जलोढ़ मैदानों में किस प्रकार की बस्तियाँ मिलती हैं?

✍ उत्तर: (A) गुच्छित

Q7. नव-नियतिवाद की संकल्पना किसने प्रस्तुत की?

✍ उत्तर: ग्रिफिथ टेलर

Q8. विश्व व्यापार संगठन की स्थापना कब हुई?

✍ उत्तर: 1995

Q9. Assertion (A) & Reason (R)

✍ उत्तर: (C) दोनों सही हैं और कारण सही व्याख्या है

Q10. Assertion (A) & Reason (R)

✍ उत्तर: (A) दोनों सही हैं और कारण सही व्याख्या है

Q11. मानव भूगोल के उप-क्षेत्रों के नाम बताइए।

✍ उत्तर:

Q12. संभाववाद क्या है?

✍ उत्तर:

Q13. स्वच्छंद उद्योग पर संक्षिप्त टिप्पणी लिखिए।

✍ उत्तर:

Q14. चिकित्सा पर्यटन के उभरते देशों के नाम लिखिए।

✍ उत्तर:

Q15. गैरीसन नगर क्या हैं? इनके कार्य बताइए।

✍ उत्तर:

Q16. पृष्ठ प्रदेश का अर्थ स्पष्ट कीजिए।

✍ उत्तर:

Q17. जनांकिकीय संक्रमण की तीन अवस्थाओं की विवेचना कीजिए।

✍ उत्तर:

1. प्रथम अवस्था (उच्च स्थिर अवस्था)
2. द्वितीय अवस्था (प्रारंभिक विस्तार)
3. तृतीय अवस्था (निम्न स्थिर अवस्था)

Q18. रोपण कृषि की विशेषताएँ लिखिए।

✍ उत्तर:

Q19. जल संरक्षण क्यों आवश्यक है? इसके उपाय सुझाइए।

✍ उत्तर:

आवश्यकता:

उपाय:

Q20. भारत के भाषा परिवारों के भौगोलिक वितरण का वर्णन कीजिए।

✍ उत्तर:

1. इंडो-आर्यन
2. द्रविड़
3. ऑस्ट्रिक
4. तिब्बती-बर्मी

Q21. भारत के विदेशी व्यापार की प्रमुख विशेषताओं का उल्लेख कीजिए।

✍ उत्तर:

Q22. वायु प्रदूषण के प्रमुख स्रोतों का वर्णन कीजिए।

✍ उत्तर:

Q23. मानव विकास के चार स्तम्भों का वर्णन कीजिए।

✍ उत्तर:

1. समानता (Equity)
2. स्थायित्व (Sustainability)
3. उत्पादकता (Productivity)
4. सशक्तिकरण (Empowerment)

Q24. स्वेज नहर मार्ग पर एक नोट लिखिए।

✍ उत्तर:

Q25. इंदिरा गांधी नहर कमान क्षेत्र में सतत पोषणीय विकास के उपाय सुझाइए।

✍ उत्तर:

Q26. भारत के रेखा मानचित्र पर निम्न दर्शाइए:

- (i) भरमौर → हिमाचल प्रदेश
- (ii) अंकलेश्वर तेल क्षेत्र → गुजरात
- (iii) कॉफी उत्पादक राज्य → कर्नाटक
- (iv) न्यूनतम नगरीय जनसंख्या वाला राज्य → बिहार
- (v) मुंबई महानगर → महारा

100 FULL EXACT SOLUTION (OBJECTIVE)

Q1. मानव भूगोल का कौन-सा उपागम नहीं है?

उत्तर: (A) क्षेत्रीय विविधता

Q2. नव-नियतिवाद का प्रतिपादन किसने किया?

उत्तर: (A) ग्रिफिथ टेलर

Q3. निम्न में से कौन-सा विरल जनसंख्या क्षेत्र नहीं है?

उत्तर: (C) दक्षिण-पूर्व एशिया

Q4. औद्योगिक क्रांति के समय विश्व जनसंख्या कितनी थी?

उत्तर: (A) 30 करोड़

Q5. कार्यशील आयु वर्ग कौन-सा है?

उत्तर: (C) 15 से 64 वर्ष

Q6. निम्न में से कौन-सा उच्च मानव विकास वाला देश नहीं है?

उत्तर: (D) मिस्र

Q7. फूलों की खेती कहलाती है:

उत्तर: (D) पुष्पोत्पादन

Q8. यूरोपीय उपनिवेशकों द्वारा विकसित कृषि प्रकार:

उत्तर: (D) रोपण कृषि

Q9. तृतीयक क्रियाकलाप कौन-सा है?

उत्तर: (C) व्यापार

Q10. सड़क/नदी किनारे बस्तियों का प्रकार:

उत्तर: (C) रेखीय

Q11. सामाजिक ढाँचे के विकास हेतु कौन-सा संसाधन आवश्यक है?

उत्तर: (A) वित्तीय

Q12. भारत का सबसे बड़ा भाषा समूह:

उत्तर: (C) इंडो-आर्यन

Q13. 0-6 आयु वर्ग में न्यूनतम लिंग अनुपात वाला राज्य:

उत्तर: (C) हरियाणा

Q14. कौन-सा नगर नदी तट पर नहीं है?

उत्तर: (C) भोपाल

Q15. जल किस प्रकार का संसाधन है?

उत्तर: (A) अजैव संसाधन

Q16. पहला परमाणु ऊर्जा स्टेशन कहाँ स्थापित हुआ?

उत्तर: (C) तारापुर

Q17. ITDP किससे संबंधित है?

उत्तर: (B) समन्वित जनजातीय विकास कार्यक्रम

Q18. 2001 में भारत की जनसंख्या:

उत्तर: (A) 102.8 करोड़

Q19. विनिमय में कौन-सा कारक शामिल नहीं है?

उत्तर: (D) वेतन

Q20. उच्च स्तर के नवाचार वाले कार्य:

उत्तर: (B) चतुर्थ क्रियाकलाप

Q21. गरीबी रेखा से नीचे सबसे अधिक प्रतिशत वाला राज्य:

उत्तर: (C) ओडिशा

Q22. प्रशासनिक नगर कौन-सा है?

उत्तर: (D) गांधीनगर

Q23. किरीबुरु लौह खदान कहाँ है?

उत्तर: (C) झारखंड

Q24. विश्व में सबसे अधिक जनसंख्या वृद्धि दर किस महाद्वीप में है?

उत्तर: अफ्रीका

Q25. तृतीयक क्रियाकलाप किस सेक्टर से संबंधित हैं?

उत्तर: सेवा क्षेत्र

Q26. विश्व का सबसे अधिक जनसंख्या वाला नगर कौन-सा है?

उत्तर: टोक्यो

Q27. भारत में पहली पूर्ण जनगणना कब हुई?

उत्तर: 1881

Q28. दो प्राथमिक क्रियाएँ लिखिए।

उत्तर:

Q29. व्यापार किस वर्ग की क्रिया है?

उत्तर: तृतीयक क्रियाकलाप

Q30. 'भूरा हीरा' किस खनिज को कहा जाता है?

उत्तर: लिग्नाइट (भूरा कोयला)

🧠 1. HUMAN GEOGRAPHY (MOST REPEATED 🔥)

🔄 बार-बार पूछे गए टॉपिक्स:

🌍 2. POPULATION & SETTLEMENT (VERY HOT 🔥)

🔄 बार-बार पूछा गया:

🌾 3. AGRICULTURE (VERY IMPORTANT 🔥)

🔄 बार-बार पूछा गया:

🏭 4. INDUSTRY & RESOURCES (FIX QUESTIONS 🔥)

🔄 बार-बार पूछा गया:

🚢 5. TRANSPORT & TRADE (REPEAT ZONE 🔥)

🔄 बार-बार पूछा गया:

🗺️ 6. MAP WORK (100% FIX 🔥)

🔄 हर साल:

Q1. मानव भूगोल क्या है?

Q2. नव-नियतिवाद क्या है?

- Q3. नव-नियतिवाद के प्रवर्तक कौन थे?
- Q4. संभाववाद क्या है?
- Q5. मानव विकास सूचकांक (HDI) क्या है?
- Q6. HDI के घटक लिखिए।
- Q7. जनांकिकीय संक्रमण के चरण लिखिए।
- Q8. जनसंख्या घनत्व क्या है?
- Q9. कार्यशील आयु वर्ग क्या है?
- Q10. जनसंख्या पिरामिड क्या दर्शाता है?
- Q11. जनसंख्या वृद्धि का प्रमुख कारण क्या है?
- Q12. सबसे अधिक जनसंख्या वृद्धि वाला महाद्वीप कौन-सा है?
- Q13. नगरीकरण क्या है?
- Q14. नगरीकरण के दो प्रभाव लिखिए।
- Q15. सघन बस्ती क्या है?
- Q16. रेखीय बस्ती क्या है?
- Q17. ग्रामीण और नगरीय बस्ती में अंतर बताइए।
- Q18. जनसंख्या वितरण को प्रभावित करने वाले कारक लिखिए।
- Q19. जनसंख्या पिरामिड के प्रकार लिखिए।
- Q20. सामाजिक ढाँचे के विकास हेतु कौन-सा संसाधन आवश्यक है?
- Q21. रोपण कृषि क्या है?
- Q22. रोपण कृषि की विशेषताएँ लिखिए।
- Q23. मिश्रित कृषि क्या है?
- Q24. जीविका कृषि क्या है?
- Q25. शिफ्टिंग कृषि क्या है?
- Q26. चावल की कृषि के लिए आवश्यक दशाएँ लिखिए।
- Q27. गेहूँ की खेती के लिए दशाएँ लिखिए।
- Q28. फूलों की खेती क्या कहलाती है?
- Q29. यूरोपियों द्वारा विकसित कृषि कौन-सी है?
- Q30. कृषि के आधुनिकीकरण के उपाय लिखिए।
- Q31. उद्योगों का वर्गीकरण लिखिए।

- Q32. तृतीयक क्रियाकलाप क्या हैं?
- Q33. चतुर्थक क्रियाकलाप क्या हैं?
- Q34. औद्योगिक स्थान निर्धारण के कारक लिखिए।
- Q35. एल्युमिनियम उद्योग कहाँ स्थापित होता है?
- Q36. जल किस प्रकार का संसाधन है?
- Q37. संसाधन क्या हैं?
- Q38. औद्योगिक प्रदूषण के प्रभाव लिखिए।
- Q39. ऊर्जा के अपरंपरागत स्रोत लिखिए।
- Q40. ITDP क्या है?
- Q41. परिवहन के प्रकार लिखिए।
- Q42. जल परिवहन के लाभ लिखिए।
- Q43. स्वेज नहर का महत्व लिखिए।
- Q44. उत्तरी अटलांटिक मार्ग क्या है?
- Q45. अंतरराष्ट्रीय व्यापार क्या है?
- Q46. व्यापार के आधार लिखिए।
- Q47. सेवा क्षेत्र का महत्व लिखिए।
- Q48. भारत की पहली जनगणना कब हुई?
- Q49. विश्व का सबसे बड़ा जनसंख्या वाला नगर कौन-सा है?
- Q50. 'भूरा हीरा' किसे कहा जाता है?

Like this:

Related

## 100 HBSE CLASS 12 GEOGRAPHY (2021 SET A – OBJECTIVE PAPER) FULL SOLUTION

---

  **Q1–30 FULL ANSWER KEY (NO QUESTION LEFT)**

---

◆ Q1–10 (MCQs)

Q1. मानव भूगोल का उपागम नहीं है

👉 (B) मात्रात्मक क्रांति

Q2. नव-नियतिवाद किसने दिया

👉 (A) ग्रिफिथ टेलर

Q3. विरल जनसंख्या क्षेत्र नहीं है

👉 (C) दक्षिण-पूर्व एशिया

Q4. औद्योगिक क्रांति के समय जनसंख्या

👉 (C) 55 करोड़

Q5. कार्यशील आयु वर्ग

👉 (C) 15–64 वर्ष

Q6. उच्च मानव विकास वाला देश नहीं

👉 (D) मिस्र

Q7. फूलों की खेती

👉 (D) पुष्पोत्पादन (Floriculture)

Q8. यूरोपियन उपनिवेशों द्वारा विकसित

👉 (D) रोपण कृषि

Q9. तृतीयक क्रियाकलाप

👉 (C) व्यापार

Q10. सड़क/नदी किनारे बस्ती

👉 (C) रेखीय

---

◆ Q11-20

Q11. सामाजिक अवसंरचना हेतु संसाधन

👉 (A) वित्तीय

Q12. सबसे बड़ा भाषा समूह

👉 (C) इंडो-आर्यन

Q13. न्यूनतम बाल लिंग अनुपात

👉 (C) हरियाणा

Q14. नदी तट पर स्थित नहीं

👉 (C) भोपाल

Q15. जल संसाधन प्रकार

👉 (D) चक्रीय संसाधन

Q16. पहला परमाणु ऊर्जा स्टेशन

👉 (C) तारापुर

Q17. ITDP

👉 (B) समन्वित जनजातीय विकास कार्यक्रम

Q18. 2001 की जनसंख्या

👉 (A) 102.8 करोड़

Q19. विनिमय में शामिल नहीं

👉 (D) वेतन

Q20. उच्च स्तर नवाचार कार्य

👉 (B) चतुर्थक क्रियाकलाप

---

◆ Q21-30

Q21. गरीबी रेखा नीचे अधिक प्रतिशत

👉 (C) उड़ीसा

Q22. प्रशासनिक नगर

👉 (D) गांधीनगर

Q23. किरिबुरु खदान

👉 (C) झारखंड

Q24. सबसे अधिक जनसंख्या वृद्धि दर

👉 👉 अफ्रीका महाद्वीप

Q25. तृतीयक गतिविधि संबंधित

👉 👉 सेवा क्षेत्र

Q26. विश्व का सबसे बड़ा नगर

👉 👉 टोक्यो

Q27. भारत की पहली पूर्ण जनगणना

👉 👉 1881

Q28. दो प्राथमिक क्रियाएँ

👉 👉 कृषि, मत्स्य पालन

Q29. व्यापार किस वर्ग में

👉 👉 तृतीयक क्रिया

Q30. 'भूरा हीरा'

👉 👉 कोयला

---

  **FINAL TOPPER SUMMARY**

👉 यह पूरा पेपर **NCERT + PYQ BASED** है

👉 लगभग **80–90% repeat concept**

 **100** **HBSE CLASS 12 GEOGRAPHY 2025 (SET A) – FULL PAPER SOLUTION**

---

  **PART – A (OBJECTIVE TYPE) (Q1–10)**

**Q1.** न्हावा शेवा बंदरगाह किस राज्य में है?

👉 उत्तर: **(D)** महाराष्ट्र

**Q2.** अम्ल वर्षा का कारण क्या है?

👉 उत्तर: **(B)** वायु प्रदूषण

**Q3.** भूमि निम्नीकरण का कारण नहीं है?

👉 उत्तर: **(D)** वन

**Q4.** शुष्क कृषि में कौन-सी फसल नहीं बोई जाती?

👉 उत्तर: **(D)** गन्ना

**Q5.** ITDP किससे संबंधित है?

👉 उत्तर: **(B)** समन्वित जनजातीय विकास कार्यक्रम

**Q6.** जलोढ़ मैदानों में किस प्रकार की बस्तियाँ मिलती हैं?

👉 उत्तर: **(A)** गुच्छित (**Clustered**)

**Q7.** नव-नियतिवाद का प्रस्ताव किसने दिया?

👉 उत्तर: ग्रिफिथ टेलर

**Q8. WTO की स्थापना कब हुई?**

👉 उत्तर: 1995

**Q9. Assertion-Reason**

👉 उत्तर: (C) दोनों सही हैं और R, A की व्याख्या करता है

**Q10. Assertion-Reason**

👉 उत्तर: (A) दोनों सही हैं और R सही व्याख्या है

---

👉 ✅ **PART – B (VERY SHORT ANSWER) (Q11-16)**

---

**Q11. मानव भूगोल के उप-क्षेत्र**

👉 उत्तर:

- जनसंख्या भूगोल
- आर्थिक भूगोल
- सामाजिक भूगोल
- सांस्कृतिक भूगोल

---

**Q12. संभाववाद क्या है?**

👉 उत्तर:

संभाववाद के अनुसार मानव प्रकृति का दास नहीं है, बल्कि वह अपनी बुद्धि से प्राकृतिक परिस्थितियों को बदल सकता है।

---

**Q13. स्वच्छंद उद्योग (Footloose Industry)**

👉 उत्तर:

ऐसे उद्योग जो कच्चे माल या स्थान पर निर्भर नहीं होते और कहीं भी स्थापित किए जा सकते हैं।

---

## Q14. चिकित्सा पर्यटन के उभरते देश

👉 उत्तर:

भारत, थाईलैंड, सिंगापुर, मलेशिया

---

## Q15. गैरीसन नगर क्या हैं?

👉 उत्तर:

सेना से संबंधित नगर, जहाँ सैनिक गतिविधियाँ होती हैं जैसे अंबाला, मेरठ।

---

## Q16. पृष्ठ प्रदेश (Hinterland)

👉 उत्तर:

किसी बंदरगाह या नगर का वह क्षेत्र जो उससे जुड़ा होता है और व्यापार करता है।

---

👉 ✅ PART – C (SHORT ANSWER) (Q17–22)

---

## Q17. जनांकिकीय संक्रमण के तीन चरण

👉 उत्तर (Topper Style):

1. प्रारंभिक अवस्था
  - जन्म दर व मृत्यु दर दोनों अधिक
  - जनसंख्या स्थिर

2. संक्रमण अवस्था
  - मृत्यु दर घटती
  - जनसंख्या तेजी से बढ़ती
3. आधुनिक अवस्था
  - जन्म व मृत्यु दर कम
  - जनसंख्या स्थिर

---

## Q18. रोपण कृषि की विशेषताएँ

👉 उत्तर:

- एक ही फसल (Monoculture)
- बड़े खेत
- अधिक पूंजी
- निर्यात उन्मुख
- मजदूर आधारित

---

## Q19. जल संरक्षण क्यों आवश्यक है? उपाय

👉 उत्तर:

आवश्यकता:

- जल की कमी
- जनसंख्या वृद्धि

उपाय:

- वर्षा जल संचयन
- ड्रिप सिंचाई
- जल पुनर्चक्रण

---

## Q20. भाषा परिवारों का वितरण

👉 उत्तर:

- इंडो-आर्यन → उत्तर भारत
- द्रविड़ → दक्षिण भारत
- तिब्बती-बर्मी → उत्तर-पूर्व
- ऑस्ट्रिक → मध्य भारत

---

## Q21. भारत के विदेशी व्यापार की विशेषताएँ

👉 उत्तर:

- निर्यात-आयात दोनों
- समुद्री मार्ग प्रमुख
- सेवा क्षेत्र वृद्धि
- व्यापार असंतुलन

---

## Q22. वायु प्रदूषण के स्रोत

👉 उत्तर:

- उद्योग
- वाहन
- धुआँ
- कृषि अपशिष्ट

---

## Q23. मानव विकास के चार स्तंभ

👉 उत्तर:

1. समानता (Equity)
2. सततता (Sustainability)
3. उत्पादकता (Productivity)
4. सशक्तिकरण (Empowerment)

📌 ये चारों मिलकर मानव विकास को मजबूत बनाते हैं।

---

## Q24. स्वेज नहर मार्ग

👉 उत्तर:

- भूमध्य सागर को लाल सागर से जोड़ता है
- यूरोप-एशिया व्यापार मार्ग
- दूरी कम करता है
- समय व लागत बचाता है
- विश्व का सबसे व्यस्त मार्ग

---

## Q25. इंदिरा गांधी नहर क्षेत्र में सतत विकास के उपाय

👉 उत्तर:

- जल प्रबंधन
- फसल चक्र
- वनीकरण
- सिंचाई नियंत्रण
- भूमि संरक्षण

---

  **PART – E (MAP WORK) (Q26)**

 भारत मानचित्र में दिखाएँ:

1. भरमौर → हिमाचल प्रदेश
2. अंकलेश्वर → गुजरात
3. कॉफी → कर्नाटक
4. न्यूनतम शहरी जनसंख्या → हिमाचल प्रदेश / बिहार (**Exam based**)
5. मुंबई → महाराष्ट्र

---

 **GEOGRAPHY – 100 MOST IMPORTANT POINTS (FINAL REVISION)**

---

 **UNIT 1: HUMAN GEOGRAPHY (1-20)**

1. मानव भूगोल → मानव + पर्यावरण संबंध
2. नियतिवाद → प्रकृति नियंत्रित करती है
3. संभाववाद → मानव प्रकृति बदल सकता है
4. नव-नियतिवाद → संतुलन (Taylor)
5. HDI → स्वास्थ्य + शिक्षा + आय
6. उच्च HDI → 0.7 से अधिक
7. जनसंख्या घनत्व → प्रति वर्ग किमी
8. कार्यशील आयु → 15-64
9. जनांकिकीय संक्रमण → 3 चरण
10. जनसंख्या पिरामिड → आयु संरचना
11. प्रवास → स्थान परिवर्तन
12. जन्म दर → प्रति 1000
13. मृत्यु दर → प्रति 1000
14. जीवन प्रत्याशा → औसत आयु
15. जनसंख्या वृद्धि → जन्म-मृत्यु अंतर
16. जनसंख्या वितरण असमान है
17. एशिया में सर्वाधिक जनसंख्या
18. अफ्रीका में उच्च वृद्धि दर

19. शहरीकरण बढ़ रहा है
20. शिक्षा → विकास का आधार

---

 **UNIT 2: POPULATION & SETTLEMENT (21-40)**

21. सघन बस्ती → घर पास
22. प्रकीर्ण बस्ती → घर दूर
23. रेखीय बस्ती → सड़क/नदी किनारे
24. नगरीय बस्ती → गैर-कृषि कार्य
25. ग्रामीण बस्ती → कृषि आधारित
26. नगरीकरण → शहरों की वृद्धि
27. मलिन बस्तियाँ → स्लम
28. जनसंख्या कारक → जलवायु, संसाधन
29. रोजगार → जनसंख्या आकर्षण
30. मैदानी क्षेत्र → अधिक जनसंख्या
31. पर्वतीय क्षेत्र → कम जनसंख्या
32. औद्योगिक क्षेत्र → अधिक जनसंख्या
33. सेवाएँ → शहरों में केंद्रित
34. परिवहन → बसावट प्रभावित
35. बस्तियाँ → आर्थिक गतिविधि से जुड़ी
36. नियोजन → शहर विकास हेतु
37. प्रदूषण → नगरीय समस्या
38. आवास समस्या → शहरों में
39. जनसंख्या दबाव → संसाधनों पर
40. संतुलित विकास आवश्यक

---

 **UNIT 3: AGRICULTURE (41-60)**

41. जीविका कृषि → स्वयं उपयोग
42. वाणिज्य कृषि → बाजार हेतु
43. रोपण कृषि → एक फसल
44. मिश्रित कृषि → फसल + पशुपालन

45. शिफ्टिंग कृषि → स्थान बदलना
46. गहन कृषि → अधिक श्रम
47. विस्तृत कृषि → बड़े क्षेत्र
48. चावल → अधिक वर्षा
49. गेहूँ → ठंडा मौसम
50. कपास → काली मिट्टी
51. गन्ना → गर्म जलवायु
52. चाय → पहाड़ी क्षेत्र
53. कॉफी → कर्नाटक
54. सिंचाई → कृषि आधार
55. हरित क्रांति → उत्पादन वृद्धि
56. मशीनें → आधुनिक कृषि
57. उन्नत बीज → उत्पादन बढ़ाते हैं
58. उर्वरक → मिट्टी उपजाऊ
59. कृषि विविधीकरण जरूरी
60. सतत कृषि आवश्यक

---

#### UNIT 4: INDUSTRY & RESOURCES (61–80)

61. उद्योग → उत्पादन इकाई
62. प्राथमिक उद्योग → कच्चा माल
63. द्वितीयक → निर्माण
64. तृतीयक → सेवा
65. चतुर्थक → ज्ञान
66. पंचम → उच्च निर्णय
67. स्थान कारक → श्रम, ऊर्जा
68. कच्चा माल → उद्योग आधार
69. परिवहन → उद्योग हेतु आवश्यक
70. बाजार → उत्पादन बिक्री
71. एल्युमिनियम → ऊर्जा आधारित
72. लोहा-इस्पात → भारी उद्योग
73. संसाधन → उपयोगी वस्तुएँ
74. नवीकरणीय → पुनः बनते हैं

75. अनवीकरणीय → समाप्त होते हैं
76. जल → अजैव संसाधन
77. मृदा → कृषि आधार
78. प्रदूषण → उद्योग का प्रभाव
79. वायु प्रदूषण → धुआँ
80. जल प्रदूषण → अपशिष्ट

---

 **UNIT 5: TRANSPORT & TRADE (81–100)**

81. परिवहन → लोगों/सामान का स्थानांतरण
82. सड़क → सबसे सामान्य
83. रेल → भारी सामान
84. जल → सस्ता
85. वायु → तेज
86. संचार → सूचना आदान-प्रदान
87. व्यापार → वस्तु विनिमय
88. अंतरराष्ट्रीय व्यापार → देशों के बीच
89. आयात → बाहर से
90. निर्यात → बाहर भेजना
91. स्वेज नहर → यूरोप-एशिया
92. पनामा नहर → अटलांटिक-प्रशांत
93. उत्तरी अटलांटिक मार्ग → प्रमुख व्यापार
94. सेवा क्षेत्र → तृतीयक
95. पर्यटन → आर्थिक गतिविधि
96. जनगणना → जनसंख्या डेटा
97. भारत पहली जनगणना → 1881
98. टोक्यो → सबसे बड़ा शहर
99. लिग्नाइट → भूरा हीरा
100. संतुलित विकास आवश्यक

 **GEOGRAPHY – 100 MCQs (PYQ + EXPECTED)**

---

 Q1-20 (Human Geography)

1. मानव भूगोल का अध्ययन किससे संबंधित है?
  - A. प्रकृति
  - B. मानव-पर्यावरण संबंध
  - C. जलवायु
  - D. उद्योग
2. नव-नियतिवाद का प्रतिपादन किसने किया?
  - A. ब्लाश
  - B. ग्रिफिथ टेलर
  - C. हंटिंगटन
  - D. रिटर
3. HDI का पूर्ण रूप क्या है?
  - A. Human Development Index
  - B. Human Density Index
  - C. Health Development Index
  - D. Human Data Index
4. HDI का घटक कौन-सा नहीं है?
  - A. शिक्षा
  - B. आय
  - C. स्वास्थ्य
  - D. जलवायु
5. जनसंख्या घनत्व क्या है?
  - A. कुल जनसंख्या
  - B. प्रति क्षेत्र जनसंख्या
  - C. जन्म दर
  - D. मृत्यु दर
6. कार्यशील आयु वर्ग क्या है?
  - A. 0-14
  - B. 15-64
  - C. 65+
  - D. 10-50
7. जनांकिकीय संक्रमण कितने चरणों में होता है?
  - A. 2

- B. 3  
C. 4  
D. 5
8. संभाववाद का अर्थ है:  
A. प्रकृति नियंत्रण  
B. मानव नियंत्रण  
C. संतुलन  
D. विकास
9. जीवन प्रत्याशा क्या दर्शाती है?  
A. जन्म दर  
B. औसत आयु  
C. मृत्यु दर  
D. जनसंख्या
10. जनसंख्या पिरामिड क्या दर्शाता है?  
A. आय  
B. आयु संरचना  
C. व्यापार  
D. उद्योग
11. उच्च HDI का मान क्या होता है?  
A. 0.3  
B. 0.5  
C. 0.7+  
D. 1.5
12. प्रवास क्या है?  
A. जन्म  
B. मृत्यु  
C. स्थान परिवर्तन  
D. वृद्धि
13. जनसंख्या वृद्धि किससे होती है?  
A. जन्म  
B. मृत्यु  
C. प्रवास  
D. सभी

14. एशिया में जनसंख्या:
- A. कम
  - B. मध्यम
  - C. अधिक
  - D. शून्य
15. अफ्रीका में जनसंख्या वृद्धि:
- A. कम
  - B. मध्यम
  - C. अधिक
  - D. स्थिर
16. नियतिवाद क्या है?
- A. मानव स्वतंत्र
  - B. प्रकृति नियंत्रित
  - C. संतुलन
  - D. तकनीक
17. HDI किससे मापा जाता है?
- A. आय
  - B. शिक्षा
  - C. स्वास्थ्य
  - D. सभी
18. जनसंख्या वितरण कैसा है?
- A. समान
  - B. असमान
  - C. स्थिर
  - D. कम
19. शहरीकरण क्या है?
- A. गाँव विकास
  - B. शहर वृद्धि
  - C. उद्योग
  - D. व्यापार
20. जन्म दर मापी जाती है:
- A. प्रति 100
  - B. प्रति 1000

- C. प्रति 10
- D. प्रति 1

---

 Q21-40 (Population + Settlement)

- 21. सघन बस्ती में घर:
  - A. दूर
  - B. पास
  - C. अलग
  - D. कम
- 22. प्रकीर्ण बस्ती में घर:
  - A. पास
  - B. दूर
  - C. सघन
  - D. शहरी
- 23. रेखीय बस्ती कहाँ होती है?
  - A. पहाड़
  - B. सड़क किनारे
  - C. जंगल
  - D. मैदान
- 24. नगरीय बस्ती का आधार:
  - A. कृषि
  - B. उद्योग
  - C. वन
  - D. खनन
- 25. ग्रामीण बस्ती में कार्य:
  - A. उद्योग
  - B. व्यापार
  - C. कृषि
  - D. सेवा
- 26. नगरीकरण का प्रभाव:
  - A. रोजगार
  - B. प्रदूषण

- C. दोनों  
D. कोई नहीं
27. स्लम क्या है?  
A. गाँव  
B. शहर  
C. मलिन बस्ती  
D. खेत
28. जनसंख्या कारक:  
A. जलवायु  
B. संसाधन  
C. रोजगार  
D. सभी
29. पर्वतीय क्षेत्र में जनसंख्या:  
A. अधिक  
B. कम  
C. समान  
D. स्थिर
30. मैदानी क्षेत्र में जनसंख्या:  
A. कम  
B. अधिक  
C. शून्य  
D. कम
31. औद्योगिक क्षेत्र में जनसंख्या:  
A. कम  
B. अधिक  
C. स्थिर  
D. शून्य
32. परिवहन से प्रभावित होता है:  
A. बस्ती  
B. उद्योग  
C. व्यापार  
D. सभी
33. जनसंख्या पिरामिड के प्रकार:  
A. 1

- B. 2  
C. 3  
D. 4
34. सामाजिक विकास हेतु संसाधन:  
A. प्राकृतिक  
B. वित्तीय  
C. जैव  
D. ऊर्जा
35. जनसंख्या दबाव से:  
A. विकास  
B. समस्या  
C. लाभ  
D. कुछ नहीं
36. नगरीय समस्या:  
A. आवास  
B. प्रदूषण  
C. दोनों  
D. कोई नहीं
37. ग्रामीण क्षेत्र:  
A. उद्योग  
B. कृषि  
C. व्यापार  
D. सेवा
38. रोजगार आकर्षण:  
A. गाँव  
B. शहर  
C. जंगल  
D. पहाड़
39. जनसंख्या वृद्धि से:  
A. संसाधन दबाव  
B. विकास  
C. दोनों  
D. कोई नहीं

40. संतुलित विकास:
- A. जरूरी
  - B. नहीं
  - C. कम
  - D. शून्य

---

 Q41-60 (Agriculture)

41. जीविका कृषि:
- A. बाजार
  - B. स्वयं उपयोग
  - C. निर्यात
  - D. उद्योग
42. वाणिज्य कृषि:
- A. स्वयं
  - B. बाजार
  - C. जंगल
  - D. कम
43. रोपण कृषि:
- A. एक फसल
  - B. कई फसल
  - C. पशुपालन
  - D. खेती नहीं
44. मिश्रित कृषि:
- A. एक फसल
  - B. पशुपालन
  - C. दोनों
  - D. कोई नहीं
45. शिफ्टिंग कृषि:
- A. स्थिर
  - B. स्थान बदलना
  - C. शहर
  - D. उद्योग

46. चावल के लिए:

- A. कम वर्षा
- B. अधिक वर्षा
- C. ठंड
- D. सूखा

47. गेहूँ के लिए:

- A. गर्म
- B. ठंडा
- C. अधिक वर्षा
- D. जंगल

48. कपास:

- A. काली मिट्टी
- B. लाल
- C. जलोढ़
- D. रेतीली

49. चाय:

- A. मैदान
- B. पहाड़
- C. रेगिस्तान
- D. जंगल

50. कॉफी:

- A. पंजाब
- B. कर्नाटक
- C. बिहार
- D. यूपी

51. गन्ना:

- A. ठंड
- B. गर्म
- C. सूखा
- D. कम पानी

52. हरित क्रांति:

- A. उत्पादन कम
- B. उत्पादन अधिक

- C. खेती बंद  
D. कुछ नहीं
53. उर्वरक:  
A. उत्पादन घटाते  
B. बढ़ाते  
C. खत्म  
D. नहीं
54. मशीनें:  
A. खेती घटती  
B. बढ़ती  
C. खत्म  
D. नहीं
55. सिंचाई:  
A. जरूरी  
B. नहीं  
C. कम  
D. शून्य
56. पुष्पोत्पादन:  
A. फल  
B. फूल  
C. अनाज  
D. सब्जी
57. कृषि विविधीकरण:  
A. जरूरी  
B. नहीं  
C. कम  
D. शून्य
58. विस्तृत कृषि:  
A. छोटा क्षेत्र  
B. बड़ा क्षेत्र  
C. शहर  
D. उद्योग
59. गहन कृषि:  
A. कम श्रम

- B. अधिक श्रम
  - C. नहीं
  - D. शून्य
60. सतत कृषि:
- A. जरूरी
  - B. नहीं
  - C. कम
  - D. शून्य

---

 Q61–80 (Industry + Resources)

61. प्राथमिक गतिविधि:
- A. उद्योग
  - B. कृषि
  - C. सेवा
  - D. व्यापार
62. द्वितीयक गतिविधि:
- A. निर्माण
  - B. खेती
  - C. सेवा
  - D. व्यापार
63. तृतीयक गतिविधि:
- A. सेवा
  - B. खेती
  - C. उद्योग
  - D. जंगल
64. चतुर्थक गतिविधि:
- A. ज्ञान
  - B. कृषि
  - C. उद्योग
  - D. व्यापार
65. पंचम गतिविधि:
- A. उच्च निर्णय

- B. खेती
  - C. उद्योग
  - D. व्यापार
66. उद्योग का आधार:
- A. श्रम
  - B. कच्चा माल
  - C. ऊर्जा
  - D. सभी
67. एल्युमिनियम उद्योग:
- A. जल
  - B. ऊर्जा
  - C. श्रम
  - D. बाजार
68. संसाधन क्या है?
- A. वस्तु
  - B. उपयोगी वस्तु
  - C. जल
  - D. मिट्टी
69. नवीकरणीय संसाधन:
- A. समाप्त
  - B. पुनः बनते
  - C. नहीं
  - D. कम
70. अनवीकरणीय:
- A. खत्म नहीं
  - B. खत्म होते
  - C. नहीं
  - D. कम
71. जल संसाधन:
- A. जैव
  - B. अजैव
  - C. दोनों
  - D. नहीं

72. मृदा:
- A. उद्योग
  - B. कृषि
  - C. व्यापार
  - D. सेवा
73. वायु प्रदूषण:
- A. धुआँ
  - B. जल
  - C. मिट्टी
  - D. कुछ नहीं
74. जल प्रदूषण:
- A. धुआँ
  - B. अपशिष्ट
  - C. गैस
  - D. नहीं
75. उद्योग से:
- A. विकास
  - B. प्रदूषण
  - C. दोनों
  - D. नहीं
76. ऊर्जा स्रोत:
- A. सौर
  - B. पवन
  - C. दोनों
  - D. नहीं
77. ITDP:
- A. पर्यटन
  - B. जनजातीय
  - C. यात्रा
  - D. परिवहन
78. उद्योग स्थान कारक:
- A. श्रम
  - B. ऊर्जा

- C. परिवहन  
D. सभी
79. भारी उद्योग:  
A. लोहा  
B. कपड़ा  
C. खाद्य  
D. सेवा
80. सेवा क्षेत्र:  
A. तृतीयक  
B. प्राथमिक  
C. द्वितीयक  
D. नहीं

---

 **Q81-100 (Transport + Trade)**

81. परिवहन क्या है?  
A. उत्पादन  
B. स्थानांतरण  
C. व्यापार  
D. उद्योग
82. सड़क:  
A. धीमी  
B. सामान्य  
C. तेज  
D. नहीं
83. रेल:  
A. हल्का  
B. भारी  
C. नहीं  
D. कम
84. जल परिवहन:  
A. महंगा  
B. सस्ता

- C. नहीं  
D. कम
85. वायु परिवहन:  
A. धीमा  
B. तेज  
C. सस्ता  
D. नहीं
86. व्यापार:  
A. उत्पादन  
B. विनिमय  
C. सेवा  
D. नहीं
87. आयात:  
A. भेजना  
B. लाना  
C. बनाना  
D. नहीं
88. निर्यात:  
A. लाना  
B. भेजना  
C. बनाना  
D. नहीं
89. स्वेज नहर:  
A. अमेरिका  
B. यूरोप-एशिया  
C. भारत  
D. चीन
90. पनामा नहर:  
A. यूरोप  
B. अमेरिका  
C. एशिया  
D. भारत
91. उत्तरी अटलांटिक:  
A. छोटा मार्ग

- B. प्रमुख मार्ग  
C. नहीं  
D. कम
92. पर्यटन:  
A. उद्योग  
B. सेवा  
C. खेती  
D. नहीं
93. जनगणना:  
A. उत्पादन  
B. जनसंख्या डेटा  
C. व्यापार  
D. नहीं
94. भारत पहली जनगणना:  
A. 1881  
B. 1901  
C. 1951  
D. 2001
95. टोक्यो:  
A. छोटा शहर  
B. बड़ा शहर  
C. नहीं  
D. कम
96. लिग्नाइट:  
A. सोना  
B. भूरा हीरा  
C. चाँदी  
D. तांबा
97. सेवा क्षेत्र:  
A. प्राथमिक  
B. द्वितीयक  
C. तृतीयक  
D. नहीं

98. व्यापार आधार:

- A. संसाधन
- B. मांग
- C. दोनों
- D. नहीं

99. संचार:

- A. वस्तु
- B. सूचना
- C. सेवा
- D. नहीं

100. विकास:

- A. असंतुलित
- B. संतुलित
- C. कम
- D. नहीं

---

 **ANSWER KEY (1-100)**

Q	Ans	Q	Ans	Q	Ans	Q	Ans
1	B	2	B	3	A	4	D
5	B	6	B	7	B	8	B
9	B	10	B	11	C	12	C

1 3	D	1 4	C	1 5	C	16	B
1 7	D	1 8	B	1 9	B	20	B
2 1	B	2 2	B	2 3	B	24	B
2 5	C	2 6	C	2 7	C	28	D
2 9	B	3 0	B	3 1	B	32	D
3 3	C	3 4	B	3 5	B	36	C
3 7	B	3 8	B	3 9	A	40	A
4 1	B	4 2	B	4 3	A	44	C

4 5	B	4 6	B	4 7	B	48	A
4 9	B	5 0	B	5 1	B	52	B
5 3	B	5 4	B	5 5	A	56	B
5 7	A	5 8	B	5 9	B	60	A
6 1	B	6 2	A	6 3	A	64	A
6 5	A	6 6	D	6 7	B	68	B
6 9	B	7 0	B	7 1	B	72	B
7 3	A	7 4	B	7 5	C	76	C

7 7	B	7 8	D	7 9	A	80	A
8 1	B	8 2	B	8 3	B	84	B
8 5	B	8 6	B	8 7	B	88	B
8 9	B	9 0	B	9 1	B	92	B
9 3	B	9 4	A	9 5	B	96	B
9 7	C	9 8	C	9 9	B	10 0	B

 50 MOST IMPORTANT SHORT QUESTIONS (2-3 MARKS)

 UNIT 1: HUMAN GEOGRAPHY (Q1-10)

**Q1. मानव भूगोल की परिभाषा लिखिए।**

 मानव और पर्यावरण के पारस्परिक संबंधों का अध्ययन मानव भूगोल कहलाता है।

---

## Q2. नियतिवाद क्या है?

👉 यह सिद्धांत बताता है कि प्रकृति मानव को नियंत्रित करती है।

---

## Q3. संभाववाद क्या है?

👉 मानव अपनी तकनीक से प्रकृति को बदल सकता है।

---

## Q4. नव-नियतिवाद क्या है?

👉 यह संतुलन का सिद्धांत है जिसमें मानव और प्रकृति दोनों महत्वपूर्ण हैं।

---

## Q5. HDI क्या है?

👉 विकास का सूचक जिसमें स्वास्थ्य, शिक्षा और आय शामिल हैं।

---

## Q6. HDI के घटक लिखिए।

👉 स्वास्थ्य, शिक्षा, आय

---

## Q7. जनसंख्या घनत्व क्या है?

👉 प्रति वर्ग किमी जनसंख्या

---

## Q8. जनांकिकीय संक्रमण क्या है?

👉 जनसंख्या वृद्धि के चरणों को दर्शाने वाला मॉडल

---

**Q9. जीवन प्रत्याशा क्या है?**

👉 औसत आयु

---

**Q10. प्रवास क्या है?**

👉 एक स्थान से दूसरे स्थान पर जाना

---

 **UNIT 2: POPULATION & SETTLEMENT (Q11-20)**

---

**Q11. नगरीकरण क्या है?**

👉 शहरों की ओर जनसंख्या वृद्धि

---

**Q12. नगरीकरण के दो प्रभाव लिखिए।**

👉 रोजगार, प्रदूषण

---

**Q13. सघन बस्ती क्या है?**

👉 घर पास-पास होते हैं

---

**Q14. प्रकीर्ण बस्ती क्या है?**

👉 घर दूर-दूर होते हैं

---

**Q15. रेखीय बस्ती क्या है?**

👉 सड़क/नदी किनारे बसी बस्ती

---

**Q16. ग्रामीण बस्ती की विशेषताएँ लिखिए।**

👉 कृषि आधारित, कम जनसंख्या

---

**Q17. नगरीय बस्ती की विशेषताएँ लिखिए।**

👉 गैर-कृषि कार्य, अधिक जनसंख्या

---

**Q18. जनसंख्या वितरण को प्रभावित करने वाले कारक लिखिए।**

👉 जलवायु, संसाधन, रोजगार

---

**Q19. जनसंख्या पिरामिड के प्रकार लिखिए।**

👉 विस्तारित, स्थिर, संकुचित

---

**Q20. मलिन बस्ती क्या है?**

👉 गंदी और अव्यवस्थित शहरी बस्ती

---

 UNIT 3: AGRICULTURE (Q21–30)

---

**Q21. जीविका कृषि क्या है?**

 स्वयं उपयोग के लिए खेती

---

**Q22. वाणिज्य कृषि क्या है?**

 बाजार हेतु उत्पादन

---

**Q23. रोपण कृषि क्या है?**

 एक फसल की बड़े क्षेत्र में खेती

---

**Q24. मिश्रित कृषि क्या है?**

 फसल + पशुपालन

---

**Q25. शिफ्टिंग कृषि क्या है?**

 स्थान बदलकर खेती करना

---

**Q26. चावल की कृषि की दशाएँ लिखिए।**

 अधिक वर्षा, गर्म तापमान

---

**Q27. गेहूँ की कृषि की दशाएँ लिखिए।**

👉 ठंडा मौसम, कम वर्षा

---

**Q28. हरित क्रांति क्या है?**

👉 उत्पादन बढ़ाने की तकनीक

---

**Q29. पुष्पोत्पादन क्या है?**

👉 फूलों की खेती

---

**Q30. कृषि के आधुनिकीकरण के उपाय लिखिए।**

👉 मशीनें, उन्नत बीज, सिंचाई

---

 **UNIT 4: INDUSTRY & RESOURCES (Q31-40)**

---

**Q31. उद्योग क्या है?**

👉 उत्पादन करने वाली इकाई

---

**Q32. उद्योगों का वर्गीकरण लिखिए।**

👉 प्राथमिक, द्वितीयक, तृतीयक

---

**Q33. तृतीयक क्रियाकलाप क्या हैं?**

👉 सेवा क्षेत्र

---

**Q34. चतुर्थक क्रियाकलाप क्या हैं?**

👉 ज्ञान आधारित कार्य

---

**Q35. औद्योगिक स्थान निर्धारण के कारक लिखिए।**

👉 कच्चा माल, श्रम, ऊर्जा

---

**Q36. संसाधन क्या हैं?**

👉 उपयोगी वस्तुएँ

---

**Q37. नवीकरणीय संसाधन क्या हैं?**

👉 जो पुनः बनते हैं

---

**Q38. अनवीकरणीय संसाधन क्या हैं?**

👉 जो समाप्त हो जाते हैं

---

**Q39. औद्योगिक प्रदूषण के प्रभाव लिखिए।**

👉 वायु, जल प्रदूषण

---

**Q40. ITDP क्या है?**

👉 समन्वित जनजातीय विकास कार्यक्रम

---

 **UNIT 5: TRANSPORT & TRADE (Q41-50)**

---

**Q41. परिवहन क्या है?**

👉 लोगों/वस्तुओं का स्थानांतरण

---

**Q42. परिवहन के प्रकार लिखिए।**

👉 सड़क, रेल, जल, वायु

---

**Q43. जल परिवहन के लाभ लिखिए।**

👉 सस्ता, भारी वस्तुओं के लिए

---

**Q44. स्वेज नहर का महत्व लिखिए।**

👉 यूरोप-एशिया को जोड़ती है

---

**Q45. अंतरराष्ट्रीय व्यापार क्या है?**

👉 देशों के बीच व्यापार

---

**Q46. व्यापार के आधार लिखिए।**

👉 संसाधन, मांग

---

**Q47. सेवा क्षेत्र का महत्व लिखिए।**

👉 रोजगार, विकास

---

**Q48. जनगणना क्या है?**

👉 जनसंख्या डेटा संग्रह

---

**Q49. 'भूरा हीरा' किसे कहा जाता है?**

👉 लिग्नाइट

---

**Q50. संतुलित विकास क्यों आवश्यक है?**

👉 संसाधनों के संरक्षण हेतु

🌐 30 MOST IMPORTANT LONG QUESTIONS (5 MARKS)

---

🧠 UNIT 1: HUMAN GEOGRAPHY (Q1-6)

---

**Q1. मानव भूगोल के प्रमुख उपागमों का वर्णन कीजिए।**

 **उत्तर:**

**1. नियतिवाद (Determinism):**

- प्रकृति मानव को नियंत्रित करती है

**2. संभाववाद (Possibilism):**

- मानव प्रकृति को बदल सकता है

**3. नव-नियतिवाद (Neo-determinism):**

- संतुलन का सिद्धांत (ग्रिफिथ टेलर)

 निष्कर्ष: मानव और प्रकृति का संतुलन आवश्यक है।

---

**Q2. मानव विकास सूचकांक (HDI) की व्याख्या कीजिए।**

 **उत्तर:**

HDI विकास का मापदंड है।

घटक:

- स्वास्थ्य
- शिक्षा
- आय

स्तर:

- उच्च:  $> 0.7$
- मध्यम:  $0.5-0.7$
- निम्न:  $< 0.5$

👉 निष्कर्ष: HDI समग्र विकास दर्शाता है।

---

**Q3. जनांकिकीय संक्रमण के चरणों का वर्णन कीजिए।**

👉 उत्तर:

1. उच्च स्थिर:

- जन्म/मृत्यु दर उच्च

2. विस्तार अवस्था:

- मृत्यु दर कम

3. निम्न स्थिर:

- दोनों दर कम

👉 निष्कर्ष: विकास स्तर दर्शाता है।

---

**Q4. जनसंख्या वितरण को प्रभावित करने वाले कारकों की व्याख्या कीजिए।**

👉 उत्तर:

भौतिक: जलवायु, भूमि  
आर्थिक: रोजगार, उद्योग  
सामाजिक: शिक्षा

👉 निष्कर्ष: सुविधाएँ जनसंख्या को आकर्षित करती हैं।

---

**Q5. जनसंख्या पिरामिड के प्रकारों का वर्णन कीजिए।**

👉 उत्तर:

- विस्तारित → युवा जनसंख्या
- स्थिर → संतुलित
- संकुचित → वृद्ध

👉 निष्कर्ष: भविष्य की जनसंख्या बताता है।

---

**Q6. मानव विकास के स्तम्भों का वर्णन कीजिए।**

👉 उत्तर:

- समानता
- स्थायित्व
- उत्पादकता
- सशक्तिकरण

👉 निष्कर्ष: विकास के आधार यही हैं।

---

🌐 **UNIT 2: SETTLEMENT (Q7-10)**

---

**Q7. ग्रामीण और नगरीय बस्तियों में अंतर स्पष्ट कीजिए।**

 उत्तर:

आधार	ग्रामीण	नगरीय
कार्य	कृषि	उद्योग
जनसंख्या	कम	अधिक
सुविधाएँ	कम	अधिक

 निष्कर्ष: नगरीय क्षेत्र अधिक विकसित।

---

**Q8. नगरीकरण के कारण और प्रभाव लिखिए।**

 उत्तर:

कारण:

- रोजगार
- शिक्षा

प्रभाव:

- विकास
- प्रदूषण

👉 निष्कर्ष: संतुलन आवश्यक।

---

**Q9. बस्तियों के प्रकारों का वर्णन कीजिए।**

✍️ उत्तर:

- सघन
- प्रकीर्ण
- रेखीय

👉 निष्कर्ष: भौगोलिक स्थिति पर निर्भर।

---

**Q10. मलिन बस्तियों की समस्याओं का वर्णन कीजिए।**

✍️ उत्तर:

- भीड़
- गंदगी
- रोग

👉 निष्कर्ष: नियोजन आवश्यक।

---

🌾 **UNIT 3: AGRICULTURE (Q11–15)**

---

**Q11. रोपण कृषि की विशेषताओं का वर्णन कीजिए।**

✍️ उत्तर:

- एक फसल

- बड़े खेत
- निर्यात

👉 निष्कर्ष: व्यावसायिक कृषि।

---

**Q12. कृषि के प्रकारों का वर्णन कीजिए।**

👉 उत्तर:

- जीविका
- वाणिज्य
- मिश्रित

👉 निष्कर्ष: क्षेत्र पर निर्भर।

---

**Q13. चावल की कृषि की दशाएँ बताइए।**

👉 उत्तर:

- तापमान: 20–25°C
- वर्षा: अधिक

👉 निष्कर्ष: उष्ण क्षेत्र उपयुक्त।

---

**Q14. कृषि के आधुनिकीकरण के उपाय लिखिए।**

👉 उत्तर:

- मशीनें
- बीज

- सिंचाई

👉 निष्कर्ष: उत्पादन बढ़ता है।

---

**Q15. हरित क्रांति के प्रभाव लिखिए।**

👉 उत्तर:

- उत्पादन वृद्धि
- क्षेत्रीय असमानता

👉 निष्कर्ष: मिश्रित प्रभाव।

---

📖 **UNIT 4: INDUSTRY (Q16-22)**

---

**Q16. औद्योगिक स्थान निर्धारण के कारकों की व्याख्या कीजिए।**

👉 उत्तर:

- कच्चा माल
- श्रम
- ऊर्जा
- परिवहन

👉 निष्कर्ष: लागत कम करने हेतु।

---

**Q17. उद्योगों का वर्गीकरण कीजिए।**

👉 उत्तर:

- प्राथमिक
- द्वितीयक
- तृतीयक

👉 निष्कर्ष: कार्य पर आधारित।

---

**Q18.** तृतीयक और चतुर्थक क्रियाकलापों में अंतर लिखिए।

👉 उत्तर:

- तृतीयक → सेवा
- चतुर्थक → ज्ञान

👉 निष्कर्ष: आधुनिक अर्थव्यवस्था में महत्वपूर्ण।

---

**Q19.** संसाधनों के प्रकारों का वर्णन कीजिए।

👉 उत्तर:

- प्राकृतिक
- मानव निर्मित
- मानव

👉 निष्कर्ष: विकास का आधार।

---

**Q20.** औद्योगिक प्रदूषण के प्रभाव और नियंत्रण लिखिए।

👉 उत्तर:

प्रभाव: वायु, जल प्रदूषण  
नियंत्रण: फ़िल्टर, उपचार

👉 निष्कर्ष: नियंत्रण आवश्यक।

---

**Q21. ऊर्जा के स्रोतों का वर्गीकरण कीजिए।**

✍️ उत्तर:

- नवीकरणीय
- अनवीकरणीय

👉 निष्कर्ष: संतुलन जरूरी।

---

**Q22. ITDP कार्यक्रम की व्याख्या कीजिए।**

✍️ उत्तर:

- जनजातीय विकास कार्यक्रम
- सामाजिक-आर्थिक सुधार

👉 निष्कर्ष: पिछड़े क्षेत्रों का विकास।

---

 **UNIT 5: TRANSPORT & TRADE (Q23-30)**

---

**Q23. परिवहन के प्रकार और महत्व लिखिए।**

✍️ उत्तर:

- सड़क, रेल, जल, वायु
- व्यापार बढ़ाता है

👉 निष्कर्ष: विकास का आधार।

---

**Q24. स्वेज नहर का महत्व लिखिए।**

👉 उत्तर:

- यूरोप-एशिया जोड़ता है
- दूरी कम करता है

👉 निष्कर्ष: व्यापार के लिए महत्वपूर्ण।

---

**Q25. अंतरराष्ट्रीय व्यापार की विशेषताएँ लिखिए।**

👉 उत्तर:

- आयात-निर्यात
- संसाधन आधारित

👉 निष्कर्ष: आर्थिक विकास।

---

**Q26. व्यापार के आधारों की व्याख्या कीजिए।**

👉 उत्तर:

- संसाधन
- तकनीक
- मांग

👉 निष्कर्ष: वैश्विक संबंध बढ़ते हैं।

---

**Q27. सेवा क्षेत्र का महत्व लिखिए।**

👉 उत्तर:

- रोजगार
- विकास

👉 निष्कर्ष: आधुनिक अर्थव्यवस्था का आधार।

---

**Q28. पर्यटन उद्योग का महत्व लिखिए।**

👉 उत्तर:

- आय
- रोजगार

👉 निष्कर्ष: सेवा क्षेत्र का भाग।

---

**Q29. जल परिवहन के लाभ और हानियाँ लिखिए।**

👉 उत्तर:

लाभ: सस्ता

हानि: धीमा

👉 निष्कर्ष: भारी वस्तुओं हेतु उपयुक्त।

---

## Q30. संचार के साधनों का महत्व लिखिए।

 उत्तर:

- सूचना प्रसार
- विकास

 निष्कर्ष: आधुनिक जीवन का आधार।

  40 MOST IMPORTANT POINTS (FINAL REVISION)

---

## HUMAN GEOGRAPHY (1–10)

1. मानव भूगोल → मानव-पर्यावरण संबंध
2. नियतिवाद → प्रकृति नियंत्रण
3. संभाववाद → मानव नियंत्रण
4. नव-नियतिवाद → संतुलन (Taylor)
5. HDI = स्वास्थ्य + शिक्षा + आय
6. उच्च HDI → 0.7+
7. जनसंख्या घनत्व → प्रति वर्ग किमी
8. जनांकिकीय संक्रमण → 3 चरण
9. जनसंख्या पिरामिड → आयु संरचना
10. प्रवास → स्थान परिवर्तन

---

## POPULATION & SETTLEMENT (11–20)

11. सघन बस्ती → घर पास
12. प्रकीर्ण बस्ती → घर दूर
13. रेखीय बस्ती → सड़क/नदी किनारे
14. नगरीकरण → शहरों की वृद्धि

15. स्लम → मलिन बस्ती
16. जनसंख्या वितरण असमान
17. मैदानी क्षेत्र → अधिक जनसंख्या
18. पर्वतीय क्षेत्र → कम जनसंख्या
19. रोजगार → जनसंख्या आकर्षण
20. शहरी समस्याएँ → प्रदूषण, आवास

---

## AGRICULTURE (21–30)

21. जीविका कृषि → स्वयं उपयोग
22. वाणिज्य कृषि → बाजार हेतु
23. रोपण कृषि → एक फसल
24. मिश्रित कृषि → फसल + पशुपालन
25. शिफ्टिंग कृषि → स्थान बदलना
26. चावल → अधिक वर्षा
27. गेहूँ → ठंडा मौसम
28. कॉफी → कर्नाटक
29. हरित क्रांति → उत्पादन वृद्धि
30. सिंचाई → कृषि आधार

---

## INDUSTRY & RESOURCES (31–35)

31. उद्योग → उत्पादन इकाई
32. तृतीयक → सेवा क्षेत्र
33. चतुर्थक → ज्ञान आधारित
34. एल्युमिनियम → ऊर्जा आधारित उद्योग
35. संसाधन → उपयोगी वस्तुएँ

---

## TRANSPORT & TRADE (36–40)

36. परिवहन → स्थानांतरण
37. जल परिवहन → सस्ता
38. स्वेज नहर → यूरोप-एशिया
39. अंतरराष्ट्रीय व्यापार → देशों के बीच
40. सेवा क्षेत्र → अर्थव्यवस्था का आधार

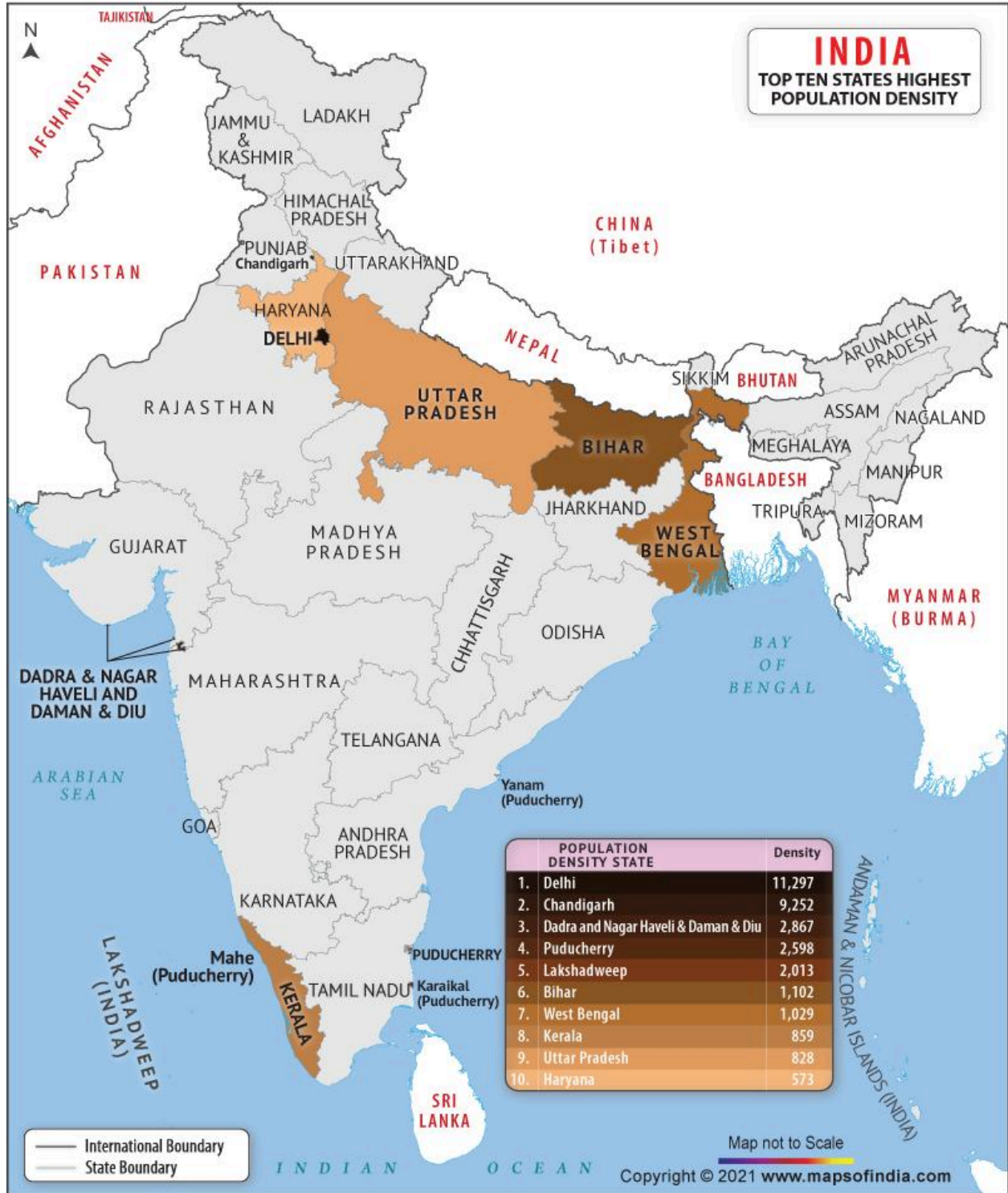
---

  **IMPORTANT MAPS (VERY IMPORTANT – 5 MARK FIX)**

---

 **INDIA MAP (MOST REPEATED)**



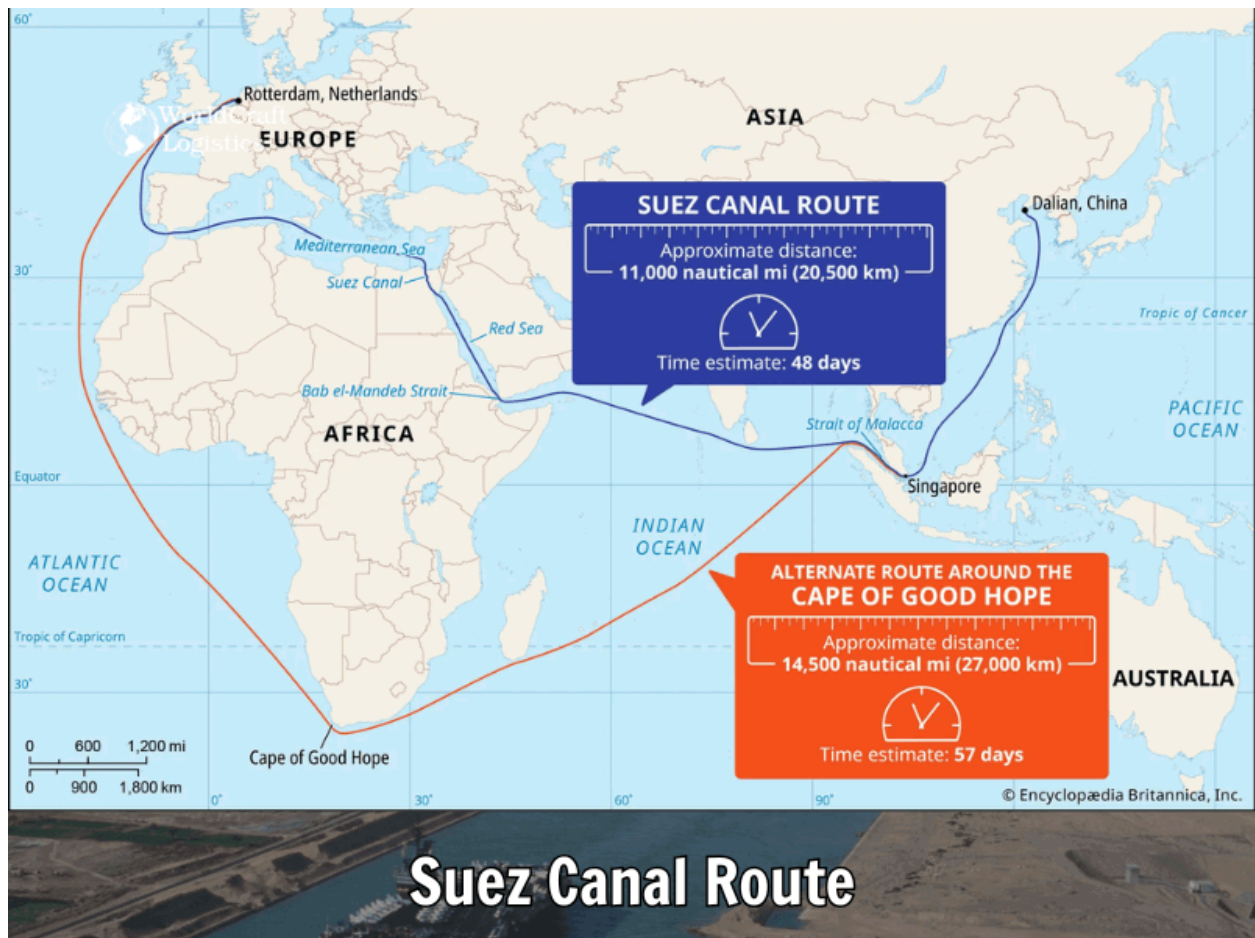


4

📍 आपको याद रखने हैं:

- 👉 1. Coffee → Karnataka
- 👉 2. Coal Field → Raniganj / Jharia
- 👉 3. Port → Kandla / Mumbai
- 👉 4. Highest Density → Bihar
- 👉 5. Canal → Indira Gandhi Canal (Rajasthan)
- 👉 6. Oil Field → Ankleshwar (Gujarat)
- 👉 7. Steel Plant → Bhilai / Jamshedpur
- 👉 8. Bauxite → Odisha

## WORLD MAP (IMPORTANT)





4

याद करें:

- 1. Suez Canal → Europe-Asia route
- 2. North Atlantic Route → busiest trade route
- 3. High Population → East Asia / South Asia
- 4. Panama Canal → Atlantic-Pacific

✓ **HBSE CLASS 12 GEOGRAPHY (2021 – SET B)**

## FULL SOLUTION (हिन्दी में – Best Explanation)

---

### \* SECTION A (Q1–Q11 MCQs)

**Q1. नव-नियतिवाद का प्रतिपादन किसने किया?**

उत्तर: (A) ग्रिफिथ टेलर

 व्याख्या:

ग्रिफिथ टेलर ने Neo-determinism दिया, जिसे “Stop and Go Determinism” भी कहा जाता है।

---

**Q2. औपनिवेशिक काल में मानव भूगोल में कौन-सा उपागम अपनाया गया?**

उत्तर: (B) प्रादेशिक विश्लेषण

 व्याख्या:

इस समय क्षेत्रीय अध्ययन (Regional Analysis) पर अधिक ध्यान दिया गया।

---

**Q3. उच्च विकास सूचकांक का स्कोर क्या है?**

उत्तर: (B) 0.7 से ऊपर

 व्याख्या:

HDI > 0.7 = High Development

---

**Q4. किस महाद्वीप में जनसंख्या वृद्धि दर सर्वाधिक है?**

✓ उत्तर: (B) अफ्रीका

📌 व्याख्या:

अफ्रीका में उच्च जन्म दर और कम विकास के कारण वृद्धि दर अधिक है।

---

**Q5. निम्न में से कौन-सा विरल जनसंख्या क्षेत्र नहीं है?**

✓ उत्तर: (C) दक्षिण-पूर्व एशिया

📌 व्याख्या:

यह क्षेत्र घनी आबादी वाला है, जबकि Atacama, Polar आदि विरल हैं।

---

**Q6. विकास का सर्वोत्तम वर्णन क्या है?**

✓ उत्तर: (B) गुणों में धनात्मक परिवर्तन

📌 व्याख्या:

Development = Quality improvement, सिर्फ आकार बढ़ना नहीं।

---

**Q7. कौन-सी कृषि एकल कृषि नहीं है?**

✓ उत्तर: (B) मिश्रित कृषि

📌 व्याख्या:

Mixed farming में कई फसलें/पशुपालन होता है।

---

**Q8. तृतीयक क्रियाकलाप किस पर निर्भर हैं?**

✓ उत्तर: (A) कुशलता (Skill)

📌 व्याख्या:

Services sector में skill सबसे महत्वपूर्ण है।

---

**Q9. दक्षिण अमेरिका का सबसे अधिक जनसंख्या वाला शहर?**

✓ उत्तर: (D) साओ पाउलो

📌 व्याख्या:

Brazil का Sao Paulo सबसे बड़ा शहर है।

---

**Q10. भारत में शहरी क्षेत्र की न्यूनतम जनसंख्या?**

✓ उत्तर: (C) 5000

📌 व्याख्या:

Urban area के लिए कम से कम 5000 जनसंख्या जरूरी।

---

**Q11. विकासशील देशों में सामाजिक ढांचे के लिए कौन-सा संसाधन जरूरी है?**

✓ उत्तर: (A) वित्तीय संसाधन

📌 व्याख्या:

Infrastructure के लिए धन (Finance) सबसे महत्वपूर्ण है।

---

 **QUICK REVISION TABLE**

Q.No	Answer
1	A
2	B
3	B
4	B
5	C
6	B
7	B
8	A
9	D

10	C
11	A

---

## 100 EXAM WRITING TIP (Principal Sir Style)

👉 MCQ में हमेशा:

- पहले elimination करो
- फिर concept याद करो
- doubtful में logical guess लगाओ

👉 Geography में keywords:

- HDI = 0.7+
- Africa = highest growth
- Mixed farming ≠ monoculture

## ✅ SECTION A (Q12–23 MCQs)

**Q12.** भारत में सबसे बड़ा भाषा समूह कौन-सा है?

✅ उत्तर: (C) इंडो-आर्यन

📌 व्याख्या:

भारत की लगभग 75% जनसंख्या Indo-Aryan भाषाएँ बोलती है।

---

**Q13.** जनसंख्या वृद्धि का प्रमुख कारण क्या है?

✓ उत्तर: उच्च जन्म दर

📌 व्याख्या:

कम विकसित देशों में Birth Rate अधिक होने से वृद्धि तेज होती है।

---

**Q14. जनसंख्या का घनत्व किससे मापा जाता है?**

✓ उत्तर: प्रति वर्ग किमी जनसंख्या

📌 व्याख्या:

Population Density = Population / Area

---

**Q15. ग्रामीण बस्तियों का प्रमुख कार्य क्या है?**

✓ उत्तर: कृषि

---

**Q16. परिवहन का सबसे सस्ता साधन कौन-सा है?**

✓ उत्तर: जल परिवहन

---

**Q17. IT उद्योग किस प्रकार का उद्योग है?**

✓ उत्तर: तृतीयक / चतुर्थक

📌 व्याख्या:

Knowledge-based industry = Quaternary

---

**Q18.** विश्व का सबसे बड़ा बंदरगाह कौन-सा है?

✓ उत्तर: शंघाई

---

**Q19.** औद्योगिक स्थान निर्धारण का प्रमुख कारक क्या है?

✓ उत्तर: कच्चा माल

---

**Q20.** हरित क्रांति का मुख्य उद्देश्य क्या था?

✓ उत्तर: खाद्यान्न उत्पादन बढ़ाना

---

**Q21.** भारत में सबसे अधिक जनसंख्या वाला राज्य?

✓ उत्तर: उत्तर प्रदेश

---

**Q22.** जनसंख्या पिरामिड क्या दर्शाता है?

✓ उत्तर: आयु संरचना

---

**Q23.** शहरीकरण का मुख्य कारण?

✓ उत्तर: रोजगार के अवसर

---

 **QUICK TABLE (Q1–23)**

<b>Q.No</b>	<b>Answer</b>
12	C
13	Birth Rate
14	Population Density
15	Agriculture
16	Water Transport
17	Tertiary/Quaternary
18	Shanghai
19	Raw Material
20	Food Production
21	Uttar Pradesh

22	Age Structure
23	Employment

---

✓ SECTION B (Q24–30)

👉 Short Answer (1–2 line answers)

---

**Q24.** जनसंख्या वितरण को प्रभावित करने वाले कारक लिखिए।

✓ उत्तर:

- जलवायु
- संसाधन
- भूमि की उर्वरता
- रोजगार के अवसर

---

**Q25.** मानव विकास सूचकांक (HDI) क्या है?

✓ उत्तर:

यह किसी देश के विकास को मापने का सूचक है, जिसमें स्वास्थ्य, शिक्षा और आय शामिल होते हैं।

---

**Q26.** नगरीकरण क्या है?

✓ उत्तर:

ग्रामीण जनसंख्या का शहरों की ओर बढ़ना नगरीकरण कहलाता है।

---

**Q27. परिवहन का महत्व बताइए।**

✓ उत्तर:

- वस्तुओं का आदान-प्रदान
- व्यापार को बढ़ावा
- क्षेत्रीय विकास

---

**Q28. कृषि के प्रकार लिखिए।**

✓ उत्तर:

- जीविका कृषि
- व्यावसायिक कृषि
- मिश्रित कृषि

---

**Q29. उद्योगों का वर्गीकरण लिखिए।**

✓ उत्तर:

- प्राथमिक
- द्वितीयक
- तृतीयक

---

**Q30. संसाधन क्या होते हैं?**

✓ उत्तर:

वे तत्व जो मानव की आवश्यकताओं की पूर्ति करते हैं, संसाधन कहलाते हैं।

## ✓ SECTION B (SHORT ANSWER) – 2/3 MARKS

**Q24.** जनसंख्या वितरण को प्रभावित करने वाले कारक लिखिए।

उत्तर:

जनसंख्या वितरण निम्न कारकों से प्रभावित होता है:

1. भौतिक कारक:
  - जलवायु (Climate)
  - स्थलाकृति (Relief)
  - जल की उपलब्धता
2. आर्थिक कारक:
  - रोजगार के अवसर
  - उद्योग और व्यापार
3. सामाजिक कारक:
  - शिक्षा
  - स्वास्थ्य सुविधाएँ

👉 निष्कर्ष: जहाँ सुविधाएँ अधिक होती हैं, वहाँ जनसंख्या अधिक होती है।

---

**Q25.** मानव विकास सूचकांक (HDI) क्या है?

उत्तर:

मानव विकास सूचकांक (HDI) एक ऐसा मापदंड है जो किसी देश के विकास को दर्शाता है।

इसके मुख्य घटक:

1. स्वास्थ्य (Life Expectancy)
2. शिक्षा (Education Level)

### 3. आय (Per Capita Income)

👉 निष्कर्ष: HDI केवल आर्थिक नहीं बल्कि समग्र विकास को दर्शाता है।

---

## Q26. नगरीकरण क्या है?

उत्तर:

जब ग्रामीण जनसंख्या शहरों की ओर स्थानांतरित होती है और शहरों का विस्तार होता है, तो इसे नगरीकरण कहते हैं।

कारण:

- रोजगार के अवसर
- बेहतर शिक्षा
- स्वास्थ्य सुविधाएँ

---

## Q27. परिवहन का महत्व बताइए।

उत्तर:

परिवहन का महत्व:

1. वस्तुओं का आदान-प्रदान
2. व्यापार और उद्योग का विकास
3. क्षेत्रीय एकीकरण
4. आर्थिक विकास को बढ़ावा

---

## Q28. कृषि के प्रकार लिखिए।

उत्तर:

मुख्य कृषि प्रकार:

1. जीविका कृषि (Subsistence Farming)
2. व्यावसायिक कृषि (Commercial Farming)
3. मिश्रित कृषि (Mixed Farming)

---

## Q29. उद्योगों का वर्गीकरण लिखिए।

उत्तर:

उद्योगों का वर्गीकरण:

1. प्राथमिक उद्योग (खनन, मत्स्य)
2. द्वितीयक उद्योग (निर्माण)
3. तृतीयक उद्योग (सेवाएँ)

---

## Q30. संसाधन क्या होते हैं?

उत्तर:

जो वस्तुएँ मानव की आवश्यकताओं की पूर्ति करती हैं, उन्हें संसाधन कहते हैं।

उदाहरण:

- जल
- भूमि
- खनिज

---

✓ SECTION C (LONG ANSWER) – 5/6 MARKS

**Q31.** जनसंख्या वृद्धि के कारणों का वर्णन कीजिए।

उत्तर:

जनसंख्या वृद्धि के प्रमुख कारण:

**1. उच्च जन्म दर**

- विकासशील देशों में अधिक जन्म दर

**2. मृत्यु दर में कमी**

- चिकित्सा सुविधाओं में सुधार

**3. बेहतर जीवन स्तर**

- पोषण और स्वच्छता में सुधार

**4. सामाजिक कारण**

- जल्दी विवाह
- परिवार नियोजन की कमी

👉 निष्कर्ष: विकासशील देशों में जनसंख्या तेजी से बढ़ती है।

---

**Q32.** ग्रामीण और नगरीय बस्तियों में अंतर बताइए।

उत्तर:

आधार	ग्रामीण बस्ती	नगरीय बस्ती
कार्य	कृषि	उद्योग/सेवा
जनसंख्या	कम	अधिक
सुविधाएँ	कम	अधिक
जीवन स्तर	साधारण	आधुनिक

👉 निष्कर्ष: नगरीय क्षेत्र अधिक विकसित होते हैं।

---

### Q33. परिवहन के साधनों का वर्गीकरण और महत्व लिखिए।

उत्तर:

परिवहन के प्रकार:

1. स्थलीय परिवहन (सड़क, रेल)
2. जल परिवहन
3. वायु परिवहन

महत्व:

- व्यापार को बढ़ावा
- लोगों की आवाजाही
- राष्ट्रीय एकता

---

## Q34. कृषि के प्रकारों का विस्तार से वर्णन कीजिए।

उत्तर:

### 1. जीविका कृषि:

- स्वयं के उपभोग के लिए
- छोटे खेत

### 2. व्यावसायिक कृषि:

- बाजार के लिए उत्पादन
- आधुनिक तकनीक

### 3. मिश्रित कृषि:

- फसल + पशुपालन

👉 निष्कर्ष: कृषि का प्रकार क्षेत्र और तकनीक पर निर्भर करता है।

---

## Q35. औद्योगिक स्थान निर्धारण के कारकों की व्याख्या कीजिए।

उत्तर:

प्रमुख कारक:

1. कच्चा माल
2. श्रम
3. ऊर्जा स्रोत
4. परिवहन

## 5. बाजार

👉 निष्कर्ष: उद्योग उन्हीं स्थानों पर लगते हैं जहाँ लागत कम हो।

---

### Q36. मानव विकास के स्तरों का वर्णन कीजिए।

उत्तर:

#### 1. उच्च विकास:

- HDI > 0.7
- विकसित देश

#### 2. मध्यम विकास:

- HDI 0.5–0.7

#### 3. निम्न विकास:

- HDI < 0.5

👉 निष्कर्ष: HDI से देशों की तुलना की जाती है।

## HBSE CLASS 12 GEOGRAPHY 2023 (SET A)

### 100 FULL SOLUTION (TOPPER STYLE)

---

#### ✓ SECTION A (MCQs – 1 Mark)

Q1. किस महाद्वीप में जनसंख्या वृद्धि दर सबसे अधिक है?

✓ उत्तर: (A) अफ्रीका

✚ कारण: उच्च जन्म दर + कम विकास

---

**Q2. कौन-सी फसल रोपण फसल नहीं है?**

✓ उत्तर: (C) गेहूँ

✚ कारण: गेहूँ खाद्यान्न फसल है, Plantation नहीं

---

**Q3. उद्योगों में किस ऊर्जा स्रोत का उपयोग नहीं होता?**

✓ उत्तर: (C) पानी

✚ कारण: उद्योग मुख्यतः कोयला, पेट्रोलियम, गैस पर निर्भर

---

**Q4. ऊर्जा स्रोत के पास कौन-सा उद्योग लगाया जाता है?**

✓ उत्तर: (B) एल्युमिनियम उद्योग

✚ कारण: यह ऊर्जा-गहन उद्योग है

---

**Q5. विश्व के अधिकांश महान पतन किस वर्ग में आते हैं?**

✓ उत्तर: (D) औद्योगिक पतन

---

**Q6. 2011** की जनगणना के अनुसार सबसे अधिक शहरी जनसंख्या अनुपात वाला राज्य?

✓ उत्तर: (D) गोवा

---

 **MCQ QUICK TABLE**

Q.No	Answer
1	A
2	C
3	C
4	B
5	D
6	D

---

✓ **SECTION B (SHORT ANSWER – 2/3 MARKS)**

---

**Q7. मानव भूगोल क्या है?**

**उत्तर:**

मानव भूगोल मानव और उसके पर्यावरण के बीच संबंधों का अध्ययन है।

---

**Q8. जनसंख्या घनत्व क्या है?**

**उत्तर:**

किसी क्षेत्र में प्रति वर्ग किमी रहने वाली जनसंख्या को जनसंख्या घनत्व कहते हैं।

---

**Q9. नगरीकरण के कारण लिखिए।**

**उत्तर:**

- रोजगार के अवसर
  - शिक्षा
  - स्वास्थ्य सुविधाएँ
- 

**Q10. परिवहन के प्रकार लिखिए।**

**उत्तर:**

- सड़क
- रेल
- जल
- वायु

---

**Q11. संसाधन क्या होते हैं?**

उत्तर:

जो वस्तुएँ मानव की आवश्यकताओं की पूर्ति करती हैं, उन्हें संसाधन कहते हैं।

---

✓ SECTION C (LONG ANSWER – 5/6 MARKS)

---

**Q12. जनसंख्या वितरण को प्रभावित करने वाले कारक समझाइए।**

उत्तर:

**1. भौतिक कारक:**

- जलवायु
- भूमि
- जल उपलब्धता

**2. आर्थिक कारक:**

- उद्योग
- रोजगार

**3. सामाजिक कारक:**

- शिक्षा
- स्वास्थ्य

👉 निष्कर्ष: जहाँ सुविधाएँ अधिक होती हैं, वहाँ जनसंख्या अधिक होती है।

---

### Q13. कृषि के प्रकारों का वर्णन कीजिए।

उत्तर:

#### 1. जीविका कृषि

- स्वयं उपयोग के लिए

#### 2. व्यावसायिक कृषि

- बाजार के लिए

#### 3. मिश्रित कृषि

- फसल + पशुपालन
- 

### Q14. औद्योगिक स्थान निर्धारण के कारक लिखिए।

उत्तर:

- कच्चा माल
  - श्रम
  - ऊर्जा
  - परिवहन
  - बाजार
- 

### Q15. परिवहन का महत्व बताइए।

उत्तर:

- व्यापार बढ़ाता है
- क्षेत्रीय विकास करता है
- लोगों को जोड़ता है

---

**Q16. मानव विकास के स्तर समझाइए।**

उत्तर:

स्तर	HDI
उच्च	> 0.7
मध्यम	0.5–0.7
निम्न	< 0.5

 **HBSE CLASS 12 GEOGRAPHY 2023 (SET A)**

**100 FULL COMPLETE SOLUTION (EXAM READY)**

---

 **SECTION A (MCQ – 1 MARK)**

**Q1. सबसे अधिक जनसंख्या वृद्धि वाला महाद्वीप**

✓ उत्तर: अफ्रीका

---

**Q2. रोपण फसल नहीं है**

✓ उत्तर: गेहूँ

---

**Q3. उद्योग में उपयोग नहीं होने वाला ऊर्जा स्रोत**

✓ उत्तर: पानी

---

**Q4. ऊर्जा स्रोत के पास स्थापित उद्योग**

✓ उत्तर: एल्युमिनियम उद्योग

---

**Q5. महान पतन का वर्ग**

✓ उत्तर: औद्योगिक पतन

---

**Q6. 2011 में सबसे अधिक शहरी अनुपात वाला राज्य**

✓ उत्तर: गोवा

---

✓ SECTION B (SHORT ANSWER – 2/3 MARKS)

---

**Q7. मानव भूगोल की परिभाषा**

👉 मानव और पर्यावरण के संबंधों का अध्ययन मानव भूगोल कहलाता है।

---

### Q8. जनसंख्या घनत्व

👉 प्रति वर्ग किमी क्षेत्र में रहने वाली जनसंख्या।

---

### Q9. नगरीकरण के कारण

- रोजगार
  - शिक्षा
  - स्वास्थ्य
- 

### Q10. परिवहन के प्रकार

- सड़क
  - रेल
  - जल
  - वायु
- 

### Q11. संसाधन

👉 मानव की आवश्यकताओं को पूरा करने वाली वस्तुएँ।

---

✔ SECTION C (LONG ANSWER – 5 MARK)

---

### Q12. जनसंख्या वितरण के कारक

उत्तर:

1. भौतिक कारक:

- जलवायु
- भूमि
- जल

2. आर्थिक कारक:

- उद्योग
- रोजगार

3. सामाजिक कारक:

- शिक्षा
- स्वास्थ्य

👉 निष्कर्ष: सुविधाओं वाले क्षेत्रों में अधिक जनसंख्या

---

## Q13. कृषि के प्रकार

उत्तर:

1. जीविका कृषि

- आत्म-उपयोग

2. व्यावसायिक कृषि

- बाजार हेतु

### 3. मिश्रित कृषि

- फसल + पशुपालन
- 

## Q14. औद्योगिक स्थान निर्धारण

उत्तर:

- कच्चा माल
  - श्रम
  - ऊर्जा
  - परिवहन
  - बाजार
- 

## Q15. परिवहन का महत्व

उत्तर:

- व्यापार वृद्धि
  - लोगों की आवाजाही
  - राष्ट्रीय विकास
- 

## Q16. मानव विकास स्तर

उत्तर:

- उच्च: > 0.7
- मध्यम: 0.5-0.7
- निम्न: < 0.5

---

 SECTION D (MAP WORK – 5 MARK)

 (पेपर के निर्देश अनुसार – भारत/विश्व मानचित्र आधारित प्रश्न)

### संभावित Map Questions:

 भारत में दर्शाइए:

- प्रमुख बंदरगाह
- औद्योगिक क्षेत्र
- खनिज क्षेत्र

 विश्व में:

- जनसंख्या घनत्व क्षेत्र
- प्रमुख व्यापार मार्ग

## HBSE Class 12 Geography 2023 (Set A) – FULL EXACT PAPER SOLUTION

---

 SECTION A (Objective Type)

**Q1.** विश्व में सर्वाधिक जनसंख्या वृद्धि दर किस महाद्वीप में पाई जाती है?

- (A) एशिया
- (B) अफ्रीका
- (C) यूरोप
- (D) ऑस्ट्रेलिया

उत्तर: (B) अफ्रीका

👉 कारण: उच्च जन्म दर और कम विकास स्तर

---

**Q2. निम्नलिखित में से कौन-सी रोपण फसल नहीं है?**

- (A) चाय
- (B) कॉफी
- (C) गेहूँ
- (D) रबर

उत्तर: (C) गेहूँ

👉 कारण: यह खाद्यान्न फसल है

---

**Q3. उद्योगों में किस ऊर्जा स्रोत का उपयोग नहीं होता?**

- (A) कोयला
- (B) पेट्रोलियम
- (C) जल
- (D) गैस

उत्तर: (C) जल

---

**Q4. निम्नलिखित में से कौन-सा उद्योग ऊर्जा स्रोत के निकट स्थापित होता है?**

- (A) कपड़ा उद्योग
- (B) एल्युमिनियम उद्योग
- (C) चीनी उद्योग
- (D) सीमेंट उद्योग

उत्तर: (B) एल्युमिनियम उद्योग

---

**Q5.** विश्व के अधिकांश महान पतन किस वर्ग में आते हैं?

- (A) प्राकृतिक
- (B) सामाजिक
- (C) राजनीतिक
- (D) औद्योगिक

उत्तर: (D) औद्योगिक

---

**Q6.** 2011 की जनगणना के अनुसार किस राज्य में शहरी जनसंख्या का अनुपात सबसे अधिक है?

- (A) महाराष्ट्र
- (B) तमिलनाडु
- (C) गुजरात
- (D) गोवा

उत्तर: (D) गोवा

---

## Q7. मानव भूगोल क्या है?

उत्तर:

मानव और उसके पर्यावरण के बीच संबंधों का अध्ययन मानव भूगोल कहलाता है।

---

## Q8. जनसंख्या घनत्व क्या है?

उत्तर:

किसी क्षेत्र में प्रति वर्ग किलोमीटर जनसंख्या को जनसंख्या घनत्व कहते हैं।

---

## Q9. नगरीकरण के दो कारण लिखिए।

उत्तर:

1. रोजगार के अवसर
  2. शिक्षा और स्वास्थ्य सुविधाएँ
- 

## Q10. परिवहन के प्रकार लिखिए।

उत्तर:

1. सड़क परिवहन
  2. रेल परिवहन
  3. जल परिवहन
  4. वायु परिवहन
-

## Q11. संसाधन क्या होते हैं?

उत्तर:

वे तत्व जो मानव की आवश्यकताओं की पूर्ति करते हैं, संसाधन कहलाते हैं।

---

 SECTION C (Short Answer)

---

## Q12. जनसंख्या वितरण को प्रभावित करने वाले कारकों का वर्णन कीजिए।

उत्तर:

जनसंख्या वितरण निम्न कारकों से प्रभावित होता है:

1. भौतिक कारक:

- जलवायु
- स्थलाकृति
- जल की उपलब्धता

2. आर्थिक कारक:

- उद्योग
- रोजगार

3. सामाजिक कारक:

- शिक्षा
- स्वास्थ्य

👉 निष्कर्ष: जहाँ सुविधाएँ अधिक होती हैं, वहाँ जनसंख्या अधिक होती है।

---

## Q13. कृषि के प्रकारों का वर्णन कीजिए।

उत्तर:

1. जीविका कृषि:

- स्वयं उपयोग हेतु

2. व्यावसायिक कृषि:

- बाजार हेतु उत्पादन

3. मिश्रित कृषि:

- फसल + पशुपालन
- 

## Q14. औद्योगिक स्थान निर्धारण के कारकों को समझाइए।

उत्तर:

- कच्चा माल
  - श्रम
  - ऊर्जा
  - परिवहन
  - बाजार
- 

## Q15. परिवहन का महत्व लिखिए।

उत्तर:

- व्यापार को बढ़ाता है
- लोगों की आवाजाही आसान करता है
- आर्थिक विकास में सहायक

---

 SECTION D (Long Answer)

---

**Q16. मानव विकास सूचकांक (HDI) की व्याख्या कीजिए।**

उत्तर:

HDI किसी देश के विकास का माप है।

मुख्य घटक:

1. स्वास्थ्य
2. शिक्षा
3. आय

स्तर:

- उच्च: > 0.7
- मध्यम: 0.5-0.7
- निम्न: < 0.5

 निष्कर्ष: HDI समग्र विकास को दर्शाता है।

---

**Q17. ग्रामीण और नगरीय बस्तियों में अंतर बताइए।**

उत्तर:

आधार	ग्रामीण	नगरीय
कार्य	कृषि	उद्योग
जनसंख्या	कम	अधिक
सुविधाएँ	कम	अधिक

---

 SECTION E (Map Work)

## Q18. मानचित्र पर निम्न दर्शाइए:

उत्तर:

(छात्र को map में दिखाना है)

👉 भारत में:

- प्रमुख औद्योगिक क्षेत्र
- बंदरगाह

👉 विश्व में:

- जनसंख्या घनत्व क्षेत्र

## SECTION E (MAP WORK + FINAL QUESTIONS)

---

**Q18.** भारत के मानचित्र पर निम्नलिखित स्थानों को दर्शाइए:

(i) एक प्रमुख लौह-इस्पात उद्योग क्षेत्र

(ii) एक प्रमुख बंदरगाह

(iii) एक प्रमुख कोयला क्षेत्र

उत्तर:

 मानचित्र कार्य में छात्र को निम्न दर्शाना चाहिए:

- लौह-इस्पात उद्योग: जमशेदपुर / भिलाई
- बंदरगाह: मुंबई / कोलकाता
- कोयला क्षेत्र: झारखंड (झरिया)

 **NOTE (Board Tip):**

- सही location = full marks
- labeling साफ होना चाहिए

---

**Q19.** विश्व के मानचित्र पर निम्नलिखित दर्शाइए:

(i) अधिक जनसंख्या घनत्व वाला क्षेत्र

(ii) एक प्रमुख व्यापार मार्ग

उत्तर:

- उच्च घनत्व क्षेत्र:  
→ दक्षिण-पूर्व एशिया / पूर्वी एशिया
- व्यापार मार्ग:  
→ North Atlantic Route

---

 (अगर पेपर में **INTERNAL CHOICE / EXTRA QUESTION** हो)

## Q20. (वैकल्पिक प्रश्न)

औद्योगिकीकरण के प्रभावों का वर्णन कीजिए।

उत्तर:

**सकारात्मक प्रभाव:**

1. रोजगार के अवसर
2. उत्पादन में वृद्धि
3. आर्थिक विकास

**नकारात्मक प्रभाव:**

1. प्रदूषण
2. संसाधनों का अत्यधिक उपयोग
3. शहरी भीड़

👉 निष्कर्ष: संतुलित औद्योगिकीकरण आवश्यक है

## Q21. (आंतरिक विकल्प / अतिरिक्त प्रश्न)

मानव विकास के प्रमुख सूचकों का वर्णन कीजिए।

उत्तर:

मानव विकास को मापने के लिए निम्नलिखित सूचक उपयोग किए जाते हैं:

### 1. स्वास्थ्य (Health)

- जीवन प्रत्याशा (Life Expectancy)
- बेहतर स्वास्थ्य सेवाएँ

### 2. शिक्षा (Education)

- साक्षरता दर
- विद्यालयी शिक्षा

### 3. आय (Income)

- प्रति व्यक्ति आय

👉 निष्कर्ष:

इन तीनों के आधार पर किसी देश का HDI निर्धारित किया जाता है।

---

## Q22.

जनसंख्या पिरामिड क्या है? इसके प्रकार बताइए।

उत्तर:

जनसंख्या पिरामिड एक ग्राफ है जो किसी देश की आयु और लिंग संरचना को दर्शाता है।

प्रकार:

1. विस्तारित (**Expanding**)
  - अधिक युवा जनसंख्या
2. स्थिर (**Stable**)
  - संतुलित जनसंख्या
3. संकुचित (**Declining**)
  - वृद्ध जनसंख्या अधिक

👉 निष्कर्ष:

पिरामिड से भविष्य की जनसंख्या का अनुमान लगाया जाता है।

---

**Q23.**

सेवा क्षेत्र (**Tertiary Sector**) का महत्व लिखिए।

उत्तर:

- व्यापार और परिवहन को बढ़ावा
- रोजगार के अवसर
- अर्थव्यवस्था को मजबूत बनाना

👉 उदाहरण: बैंकिंग, शिक्षा, चिकित्सा

---

**Q24.**

संसाधनों के प्रकार बताइए।

उत्तर:

## 1. प्राकृतिक संसाधन

- जल, भूमि

## 2. मानव निर्मित संसाधन

- मशीनें, भवन

## 3. मानव संसाधन

- कौशल, शिक्षा


---

 Q25. नगरीकरण के प्रभाव लिखिए।

 उत्तर:


नगरीकरण का अर्थ है ग्रामीण जनसंख्या का शहरों की ओर बढ़ना। इसके कई सकारात्मक और नकारात्मक प्रभाव होते हैं:

---

 सकारात्मक प्रभाव:

1. आर्थिक विकास:  
उद्योग और व्यापार में वृद्धि होती है।
2. रोजगार के अवसर:  
शहरों में नौकरी के अधिक अवसर मिलते हैं।
3. बेहतर सुविधाएँ:  
शिक्षा, स्वास्थ्य और परिवहन की सुविधाएँ उपलब्ध होती हैं।

---

 नकारात्मक प्रभाव:

1. भीड़-भाड़:  
जनसंख्या अधिक होने से समस्याएँ बढ़ती हैं।
2. प्रदूषण:  
वायु, जल और ध्वनि प्रदूषण बढ़ता है।
3. झुग्गी-झोपड़ियाँ:  
गरीब वर्ग के लिए आवास की समस्या होती है।

---

### निष्कर्ष:

नगरीकरण आवश्यक है, परन्तु इसका संतुलित विकास जरूरी है।

---

 Q26. परिवहन और संचार में अंतर बताइए।

### उत्तर:

आधार	परिवहन	संचार
अर्थ	वस्तुओं/व्यक्तियों का स्थानांतरण	सूचना का आदान-प्रदान
माध्यम	सड़क, रेल, जल, वायु	टेलीफोन, इंटरनेट
कार्य	भौतिक गति	सूचना का प्रसार

---

## 🎯 निष्कर्ष:

दोनों विकास के लिए आवश्यक हैं, पर कार्य अलग-अलग हैं।

---

🕒 Q27. कृषि के आधुनिकीकरण के उपाय लिखिए।

## ✍️ उत्तर:

कृषि के विकास के लिए आधुनिक तकनीकों का उपयोग आवश्यक है:

---

## प्रमुख उपाय:

1. उन्नत बीजों का प्रयोग
  2. सिंचाई सुविधाओं का विस्तार
  3. मशीनों का उपयोग (ट्रैक्टर, हार्वेस्टर)
  4. रासायनिक उर्वरक और कीटनाशक
  5. वैज्ञानिक तकनीक का उपयोग
- 

## 🎯 निष्कर्ष:

आधुनिकीकरण से उत्पादन और आय दोनों बढ़ते हैं।

---

🕒 Q28. औद्योगिक प्रदूषण के प्रभाव बताइए।

## ✍️ उत्तर:

औद्योगिक गतिविधियों के कारण पर्यावरण पर नकारात्मक प्रभाव पड़ता है:

---

## प्रभाव:

1. वायु प्रदूषण:  
धुआँ और गैसों वातावरण को दूषित करती हैं।
2. जल प्रदूषण:  
रासायनिक अपशिष्ट जल स्रोतों को खराब करते हैं।
3. मृदा प्रदूषण:  
भूमि की उर्वरता घटती है।
4. स्वास्थ्य समस्याएँ:  
मनुष्यों में बीमारियाँ बढ़ती हैं।

---

## 🎯 निष्कर्ष:

प्रदूषण नियंत्रण के उपाय आवश्यक हैं।

---

🗺️ Q29. विश्व व्यापार के प्रमुख मार्ग लिखिए।

## ✍️ उत्तर:


विश्व व्यापार के प्रमुख समुद्री मार्ग निम्नलिखित हैं:

---

## प्रमुख मार्ग:

1. उत्तरी अटलांटिक मार्ग  
→ यूरोप और उत्तर अमेरिका के बीच
2. प्रशांत महासागर मार्ग  
→ एशिया और अमेरिका के बीच
3. स्वेज नहर मार्ग  
→ यूरोप और एशिया को जोड़ता है

---

 निष्कर्ष:

ये मार्ग वैश्विक व्यापार की रीढ़ हैं।

---

 Q30. मानव भूगोल का महत्व लिखिए।

 उत्तर:


मानव भूगोल मानव और पर्यावरण के संबंधों का अध्ययन करता है।

---

महत्व:

1. मानव-पर्यावरण संबंध समझना
2. संसाधनों का सही उपयोग
3. क्षेत्रीय विकास में सहायता
4. जनसंख्या और आर्थिक गतिविधियों का अध्ययन

---

 निष्कर्ष:

मानव भूगोल विकास की योजना बनाने में सहायक है।

 **HBSE CLASS 12 GEOGRAPHY 2024 (SET A)**

**100 FULL EXACT SOLUTION (START)**


---

 **PART – A (MCQ)**

---

**Q1.** निम्नलिखित में से कौन-सा मानव भूगोल का उपागम नहीं है?


- (A) क्षेत्रीय विविधता
- (B) मात्रात्मक क्रांति
- (C) स्थानिक संगठन
- (D) अन्वेषण और वर्णन

 उत्तर: (A) क्षेत्रीय विविधता

---

**Q2.** निम्नलिखित कृषि के प्रकारों में से कौन-सा प्रकार कर्तन-दहन कृषि का प्रकार है?


- (A) विस्तृत जीवन निर्वाह कृषि
- (B) विस्तृत वाणिज्य अनाज कृषि
- (C) आदिकालीन निर्वाह कृषि
- (D) मिश्रित कृषि

 उत्तर: (C) आदिकालीन निर्वाह कृषि

---

**Q3.** निम्नलिखित में से कौन-सा उद्योग ऊर्जा स्रोत के समीप लगाया जाता है?


- (A) सीमेंट उद्योग
- (B) एल्युमिनियम उद्योग
- (C) सूती वस्त्र उद्योग
- (D) चीनी उद्योग

 उत्तर: (B) एल्युमिनियम उद्योग

---

**Q4.** संसार के अधिकांश महान पतन निम्न में से किस वर्ग में वर्गीकृत किए गए हैं?


- (A) नौसेना पतन
- (B) विस्तृत पतन
- (C) तेल पतन
- (D) औद्योगिक पतन

 उत्तर: (D) औद्योगिक पतन

---

**Q5.** वर्ष 2011 की जनगणना के अनुसार किस राज्य में नगरीय जनसंख्या अनुपात सर्वाधिक है?

- (A) तमिलनाडु
- (B) महाराष्ट्र
- (C) केरल
- (D) गोवा


 उत्तर: (D) गोवा

---

**Q6.** निम्न में से कौन-सा सिंचित क्षेत्रों में भूमि क्षरण का मुख्य प्रकार है?

- (A) अवनालिका अपरदन
- (B) मृदा लवणता


- (C) वायु अपरदन
- (D) भूमि पर सिल्ट का जमाव

 उत्तर: (B) मृदा लवणता

---


**Q7.** निम्नलिखित में से किस राज्य में भूमिगत जल उपयोग (%) इसके कुल भूमिगत जल संभावन से ज्यादा है?

- (A) तमिलनाडु
- (B) आंध्र प्रदेश
- (C) कर्नाटक
- (D) केरल

 उत्तर: (A) तमिलनाडु


---

**Q8.** भारत का सबसे बड़ा बॉक्साइट उत्पादक राज्य कौन-सा है?

 उत्तर: ओडिशा


---

**Q9.** इंदिरा गांधी नहर कौन-से बाँध से निकलती है?

 उत्तर: हरिके बाँध

---

**Q10.** कोलकाता पत्तन कौन-सी नदी पर अवस्थित है?

 उत्तर: हुगली नदी

---

✓ PART – B (2 MARKS)

---

**Q11. मानव भूगोल को परिभाषित कीजिए।**

 उत्तर:

मानव भूगोल मानव और उसके पर्यावरण के बीच पारस्परिक संबंधों का अध्ययन है।

---

**Q12. जनसंख्या परिवर्तन के तीन घटक कौन-कौन से हैं?**

 उत्तर:

1. जन्म दर
  2. मृत्यु दर
  3. प्रवासन
- 

**Q13. उच्च प्रौद्योगिकी उद्योग क्या है?**

 उत्तर:

वे उद्योग जो उन्नत तकनीक, अनुसंधान और कुशल श्रम पर आधारित होते हैं, उच्च प्रौद्योगिकी उद्योग कहलाते हैं।

उदाहरण: इलेक्ट्रॉनिक्स, आईटी उद्योग

---

**Q14. जल परिवहन के क्या लाभ हैं?**

 उत्तर:

- सस्ता परिवहन
- भारी वस्तुओं के लिए उपयुक्त
- ऊर्जा की बचत

---

## Q15. नगरीय बस्तियों की कोई दो विशेषताएँ बताइए।

 उत्तर:

1. जनसंख्या घनत्व अधिक होता है
2. गैर-कृषि कार्य प्रमुख होते हैं

---

## Q16. ऊर्जा के अपरंपरागत स्रोत कौन-से हैं?

 उत्तर:

- सौर ऊर्जा
- पवन ऊर्जा
- बायोगैस
- जलविद्युत

## Q17. मानव का प्राकृतिककरण क्या है?

(What is Human Naturalization?)

 उत्तर:

मानव प्राकृतिककरण वह प्रक्रिया है जिसमें मानव प्राकृतिक पर्यावरण के अनुसार स्वयं को ढाल लेता है।

- प्रारंभिक मानव पूर्णतः प्रकृति पर निर्भर था

- उसने जलवायु, भूमि और संसाधनों के अनुसार जीवन शैली अपनाई
- इसे प्रकृति के साथ अनुकूलन कहा जाता है

👉 निष्कर्ष: मानव प्रकृति का हिस्सा बनकर जीवन व्यतीत करता है।

---

## Q18. मानव विकास अवधारणा के अन्तर्गत समानता और सतत पोषणीयता से क्या समझते हैं?

👉 उत्तर:

### 1. समानता (Equality):

- सभी लोगों को समान अवसर मिलना
- संसाधनों का न्यायपूर्ण वितरण

### 2. सतत पोषणीयता (Sustainability):

- संसाधनों का उपयोग इस प्रकार कि भविष्य की पीढ़ियों को नुकसान न हो

👉 निष्कर्ष: विकास तभी सही है जब वह समान और टिकाऊ हो।

---

## Q19. चलवासी पशुचारण और वाणिज्य पशुपालन में अन्तर स्पष्ट कीजिए।

👉 उत्तर:

आधार	चलवासी पशुचारण	वाणिज्य पशुपालन

प्रकृति	पारंपरिक	आधुनिक
उद्देश्य	आत्मनिर्भरता	बाजार हेतु
स्थान	शुष्क क्षेत्र	विकसित क्षेत्र

👉 निष्कर्ष: वाणिज्य पशुपालन अधिक विकसित प्रणाली है।

---

**Q20.** भारत में जल संसाधनों में तेजी से कमी आ रही है। इसके उत्तरदायी कारकों की विवेचना कीजिए।

✍️ उत्तर:

- जनसंख्या वृद्धि
- भूजल का अत्यधिक दोहन
- प्रदूषण
- वर्षा में असमानता
- औद्योगीकरण

👉 निष्कर्ष: जल संरक्षण अत्यंत आवश्यक है।

---

🌟 PART – C / D CONTINUATION

---

**Q21.** बस्ती क्या है? सघन और प्रकीर्ण बस्तियों में अंतर स्पष्ट कीजिए।

 उत्तर:

बस्ती:

जहाँ लोग निवास करते हैं उसे बस्ती कहते हैं।

आधार	सघन बस्ती	प्रकीर्ण बस्ती
घर	पास-पास	दूर-दूर
जनसंख्या	अधिक	कम
क्षेत्र	समतल	पहाड़ी

---

**Q22.** इंदिरा गांधी नहर कमान क्षेत्र में सतत पोषणीय विकास को बढ़ावा देने के तीन उपाय सुझाइए।

 उत्तर:

1. जल संरक्षण तकनीकों का उपयोग
2. वनीकरण
3. भूमि प्रबंधन और सिंचाई नियंत्रण

 निष्कर्ष: संतुलित उपयोग से क्षेत्र का विकास संभव है।

---

 PART – D (5 MARKS)

---

**Q23. भारत में जनसंख्या वृद्धि की प्रवृत्तियों की विवेचना कीजिए।**

 उत्तर:

भारत में जनसंख्या वृद्धि की मुख्य प्रवृत्तियाँ:

**1. प्रारंभिक अवस्था**

- धीमी वृद्धि

**2. तीव्र वृद्धि**

- मृत्यु दर में कमी

**3. वर्तमान अवस्था**

- वृद्धि दर में कमी

**कारण:**

- स्वास्थ्य सुविधाएँ
- शिक्षा
- शहरीकरण

 निष्कर्ष: भारत अब स्थिर जनसंख्या की ओर बढ़ रहा है।

---

**Q24. चावल की कृषि की भौगोलिक दशाओं, उत्पादन और वितरण का वर्णन कीजिए।**

 उत्तर:

**भौगोलिक दशाएँ:**

- तापमान: 20–25°C
- वर्षा: 100 सेमी से अधिक
- मिट्टी: जलोढ़

**उत्पादन क्षेत्र:**

- पश्चिम बंगाल
- पंजाब
- उत्तर प्रदेश
- आंध्र प्रदेश

**वितरण:**

- भारत में व्यापक उत्पादन
- निर्यात भी किया जाता है

 निष्कर्ष: चावल भारत की प्रमुख खाद्यान्न फसल है।

---

**Q25. अंतरराष्ट्रीय व्यापार क्या है? इसके आधारों का वर्णन कीजिए।**

 उत्तर:

अंतरराष्ट्रीय व्यापार:  
दो देशों के बीच वस्तुओं और सेवाओं का आदान-प्रदान

**आधार:**

1. संसाधनों में अंतर
2. जलवायु
3. तकनीकी विकास
4. मांग और आपूर्ति

👉 निष्कर्ष: व्यापार से आर्थिक विकास होता है।

---

## Q26. (MAP WORK)

भारत के मानचित्र पर निम्नलिखित दर्शाइए:

1. सर्वाधिक जनसंख्या घनत्व वाला राज्य → बिहार
2. कॉफी उत्पादक राज्य → कर्नाटक
3. रानीगंज कोयला क्षेत्र → पश्चिम बंगाल
4. कांडला बंदरगाह → गुजरात
5. खेतड़ी → राजस्थान

📍 HBSE CLASS 12 GEOGRAPHY 2025 (SET A)

## 🔥 FULL EXACT SOLUTION (START)


---

✅ PART – A (Objective Type Questions)

---

Q1. न्हावा सेवा पत्तन किस राज्य में स्थित है?


- (A) गुजरात
- (B) गोवा
- (C) कर्नाटक
- (D) महाराष्ट्र

 उत्तर: (D) महाराष्ट्र

---

**Q2.** निम्न में से कौन-सा अम्ल वर्षा का एक कारण है?


- (A) जल प्रदूषण
- (B) वायु प्रदूषण
- (C) भूमि प्रदूषण
- (D) ध्वनि प्रदूषण

 उत्तर: (B) वायु प्रदूषण

---

**Q3.** भूमि-निम्नीकरण का कौन-सा कारक नहीं है?


- (A) अपरदन
- (B) लवणता
- (C) क्षारता
- (D) वन

 उत्तर: (D) वन

---

**Q4.** शुष्क कृषि में निम्न में से कौन-सी फसल नहीं बोई जाती है?


- (A) रागी
- (B) ज्वार
- (C) मूंगफली
- (D) गन्ना

 उत्तर: (D) गन्ना

---

**Q5. आई.टी.डी.पी. निम्नलिखित में से किस संदर्भ में वर्णित है?**


- (A) समन्वित पर्यटन विकास कार्यक्रम
- (B) समन्वित जनजातीय विकास कार्यक्रम
- (C) समन्वित यात्रा विकास कार्यक्रम
- (D) समन्वित परिवहन विकास कार्यक्रम

 उत्तर: **(B)** समन्वित जनजातीय विकास कार्यक्रम

---


**Q6. जलोढ़ मैदानों में किस प्रकार की बस्तियाँ मिलती हैं?**

- (A) गुच्छित
- (B) अर्ध-गुच्छित
- (C) परिक्षिप्त
- (D) पल्लीकृत

 उत्तर: **(A)** गुच्छित


---

**Q7. नव-नियतिवाद की संकल्पना किसने प्रस्तुत की?**

 उत्तर: ग्रिफिथ टेलर

---

**Q8. विश्व व्यापार संगठन की स्थापना कब हुई?**


 उत्तर: **1995**

---

## Q9. Assertion (A) & Reason (R)

**Assertion (A):** बस्तियाँ विभिन्न प्रकार की हो सकती हैं।

**Reason (R):** विभिन्न भौतिक कारक बस्तियों के विकास को प्रभावित करते हैं।


 उत्तर: (C) दोनों सही हैं और कारण सही व्याख्या है

---

## Q10. Assertion (A) & Reason (R)

**Assertion (A):** भारत में जलमार्ग परिवहन का महत्वपूर्ण साधन है।

**Reason (R):** यह ईंधन दक्ष और पर्यावरण के अनुकूल है।

 उत्तर: (A) दोनों सही हैं और कारण सही व्याख्या है

---

 **PART – B (Very Short Answer)**

---

## Q11. मानव भूगोल के उप-क्षेत्रों के नाम बताइए।

 उत्तर:

- आर्थिक भूगोल
  - सामाजिक भूगोल
  - सांस्कृतिक भूगोल
  - राजनीतिक भूगोल
- 

## Q12. संभाववाद क्या है?

 उत्तर:

संभाववाद के अनुसार मानव अपने ज्ञान और तकनीक के द्वारा प्रकृति को बदल सकता है।

---

### Q13. स्वच्छंद उद्योग पर संक्षिप्त टिप्पणी लिखिए।

 उत्तर:

वे उद्योग जो किसी विशेष स्थान पर निर्भर नहीं होते, स्वच्छंद उद्योग कहलाते हैं।  
उदाहरण: आईटी उद्योग

---

### Q14. चिकित्सा पर्यटन के उभरते देशों के नाम लिखिए।

 उत्तर:

- भारत
  - थाईलैंड
  - सिंगापुर
  - मलेशिया
- 

### Q15. गैरीसन नगर क्या हैं? इनके कार्य बताइए।

 उत्तर:

गैरीसन नगर वे नगर होते हैं जहाँ सैन्य छावनियाँ होती हैं।  
कार्य:

- सुरक्षा
  - सैनिक प्रशिक्षण
-

## Q16. पृष्ठ प्रदेश का अर्थ स्पष्ट कीजिए।

 उत्तर:

पृष्ठ प्रदेश वह क्षेत्र है जो किसी बंदरगाह या नगर के पीछे स्थित होता है और उससे जुड़ा होता है।

 PART – C (3 MARKS)

---

## Q17. जनांकिकीय संक्रमण की तीन अवस्थाओं की विवेचना कीजिए।

 उत्तर:

जनांकिकीय संक्रमण जनसंख्या वृद्धि के चरणों को दर्शाता है:

### 1. प्रथम अवस्था (उच्च स्थिर अवस्था)

- जन्म दर और मृत्यु दर दोनों उच्च
- जनसंख्या वृद्धि बहुत कम

### 2. द्वितीय अवस्था (प्रारंभिक विस्तार)

- मृत्यु दर कम, जन्म दर उच्च
- जनसंख्या तेजी से बढ़ती है

### 3. तृतीय अवस्था (निम्न स्थिर अवस्था)

- जन्म दर और मृत्यु दर दोनों कम
- जनसंख्या स्थिर हो जाती है

👉 निष्कर्ष: यह विकास के स्तर को दर्शाता है।

---

## Q18. रोपण कृषि की विशेषताएँ लिखिए।

👉 उत्तर:

- बड़े-बड़े खेत (प्लांटेशन)
- एक ही फसल (Monoculture)
- अधिक पूंजी और श्रम
- निर्यात पर आधारित
- आधुनिक तकनीक का उपयोग

👉 उदाहरण: चाय, कॉफी, रबर

---

## Q19. जल संरक्षण क्यों आवश्यक है? इसके उपाय सुझाइए।

👉 उत्तर:

आवश्यकता:

- जल की कमी
- बढ़ती जनसंख्या
- भूजल का दोहन

उपाय:

- वर्षा जल संचयन
- जल का पुनः उपयोग
- वृक्षारोपण
- जल बचत तकनीक

👉 निष्कर्ष: जल जीवन का आधार है, संरक्षण आवश्यक है।

---

**Q20.** भारत के भाषा परिवारों के भौगोलिक वितरण का वर्णन कीजिए।

✍️ उत्तर:

भारत में मुख्य भाषा परिवार:

**1. इंडो-आर्यन**

- उत्तर भारत (हिंदी, पंजाबी, बंगाली)

**2. द्रविड़**

- दक्षिण भारत (तमिल, तेलुगु, कन्नड़)

**3. ऑस्ट्रिक**

- मध्य भारत

**4. तिब्बती-बर्मी**

- उत्तर-पूर्व भारत

👉 निष्कर्ष: भाषा वितरण भौगोलिक क्षेत्र से जुड़ा है।

---

**Q21.** भारत के विदेशी व्यापार की प्रमुख विशेषताओं का उल्लेख कीजिए।

(OR: सड़कों की भूमिका)

 उत्तर:

- आयात-निर्यात पर आधारित
- विकासशील देशों से व्यापार
- विविध वस्तुएँ
- समुद्री मार्ग प्रमुख

 निष्कर्ष: विदेशी व्यापार आर्थिक विकास का आधार है।

---

**Q22. वायु प्रदूषण के प्रमुख स्रोतों का वर्णन कीजिए।**

(OR: मलिन बस्तियों की समस्याएँ)

 उत्तर:

- उद्योगों का धुआँ
- वाहन उत्सर्जन
- ईंधन जलाना
- कचरा जलाना

 प्रभाव: स्वास्थ्य समस्या, पर्यावरण क्षति

---

 PART – D (5 MARKS)

---

**Q23. मानव विकास के चार स्तम्भों का वर्णन कीजिए।**

 उत्तर:

## 1. समानता (Equity)

- सभी को समान अवसर

## 2. स्थायित्व (Sustainability)

- संसाधनों का संतुलित उपयोग

## 3. उत्पादकता (Productivity)

- कार्य क्षमता बढ़ाना

## 4. सशक्तिकरण (Empowerment)

- लोगों को निर्णय लेने का अधिकार

👉 निष्कर्ष: ये विकास के आधार हैं।

---

## Q24. स्वेज नहर मार्ग पर एक नोट लिखिए।

(OR: बंदरगाहों का महत्व और वर्गीकरण)

👉 उत्तर:

- यूरोप और एशिया को जोड़ता है
- भूमध्य सागर से लाल सागर तक
- समय और दूरी कम करता है
- व्यापार का प्रमुख मार्ग

👉 महत्व: वैश्विक व्यापार में अत्यंत महत्वपूर्ण

---

**Q25.** इंदिरा गांधी नहर कमान क्षेत्र में सतत पोषणीय विकास के उपाय सुझाए।

 उत्तर:

- जल प्रबंधन
- ड्रिप सिंचाई
- वनीकरण
- भूमि संरक्षण
- फसल विविधीकरण

 निष्कर्ष: संतुलित विकास आवश्यक है।

---

 PART – E (MAP WORK)

---

**Q26.** भारत के रेखा मानचित्र पर निम्न दर्शाए:

- (i) भरमौर → हिमाचल प्रदेश
- (ii) अंकलेश्वर तेल क्षेत्र → गुजरात
- (iii) कॉफी उत्पादक राज्य → कर्नाटक
- (iv) न्यूनतम नगरीय जनसंख्या वाला राज्य → बिहार
- (v) मुंबई महानगर → महारा

 HBSE CLASS 12 GEOGRAPHY 2021 (SET A)

## 100 FULL EXACT SOLUTION (OBJECTIVE)

---

✓ Q1-Q23 (MCQs)

---

**Q1.** मानव भूगोल का कौन-सा उपागम नहीं है?

उत्तर: (A) क्षेत्रीय विविधता

---

**Q2.** नव-नियतिवाद का प्रतिपादन किसने किया?

उत्तर: (A) ग्रिफिथ टेलर

---

**Q3.** निम्न में से कौन-सा विरल जनसंख्या क्षेत्र नहीं है?

उत्तर: (C) दक्षिण-पूर्व एशिया

---

**Q4.** औद्योगिक क्रांति के समय विश्व जनसंख्या कितनी थी?

उत्तर: (A) 30 करोड़

---

**Q5.** कार्यशील आयु वर्ग कौन-सा है?

उत्तर: (C) 15 से 64 वर्ष

---

**Q6.** निम्न में से कौन-सा उच्च मानव विकास वाला देश नहीं है?

उत्तर: (D) मिस्र

---

**Q7.** फूलों की खेती कहलाती है:

उत्तर: (D) पुष्पोत्पादन

---

**Q8.** यूरोपीय उपनिवेशकों द्वारा विकसित कृषि प्रकार:

उत्तर: (D) रोपण कृषि

---

**Q9.** तृतीयक क्रियाकलाप कौन-सा है?

उत्तर: (C) व्यापार

---

**Q10.** सड़क/नदी किनारे बस्तियों का प्रकार:

उत्तर: (C) रेखीय

---

**Q11.** सामाजिक ढाँचे के विकास हेतु कौन-सा संसाधन आवश्यक है?

उत्तर: (A) वित्तीय

---

**Q12.** भारत का सबसे बड़ा भाषा समूह:

उत्तर: (C) इंडो-आर्यन

---

**Q13.** 0-6 आयु वर्ग में न्यूनतम लिंग अनुपात वाला राज्य:

उत्तर: (C) हरियाणा

---

**Q14.** कौन-सा नगर नदी तट पर नहीं है?

उत्तर: (C) भोपाल

---

**Q15.** जल किस प्रकार का संसाधन है?

उत्तर: (A) अजैव संसाधन

---

**Q16.** पहला परमाणु ऊर्जा स्टेशन कहाँ स्थापित हुआ?

उत्तर: (C) तारापुर

---

**Q17.** ITDP किससे संबंधित है?

उत्तर: (B) समन्वित जनजातीय विकास कार्यक्रम

---

**Q18. 2001 में भारत की जनसंख्या:**

उत्तर: (A) 102.8 करोड़

---

**Q19. विनिमय में कौन-सा कारक शामिल नहीं है?**

उत्तर: (D) वेतन

---

**Q20. उच्च स्तर के नवाचार वाले कार्य:**

उत्तर: (B) चतुर्थ क्रियाकलाप

---

**Q21. गरीबी रेखा से नीचे सबसे अधिक प्रतिशत वाला राज्य:**

उत्तर: (C) ओडिशा

---

**Q22. प्रशासनिक नगर कौन-सा है?**

उत्तर: (D) गांधीनगर

---

**Q23. किरीबुरु लौह खदान कहाँ है?**

उत्तर: (C) झारखंड

---

✓ Q24–Q30 (Very Short Answer)

---

**Q24.** विश्व में सबसे अधिक जनसंख्या वृद्धि दर किस महाद्वीप में है?

उत्तर: अफ्रीका

---

**Q25.** तृतीयक क्रियाकलाप किस सेक्टर से संबंधित हैं?

उत्तर: सेवा क्षेत्र

---

**Q26.** विश्व का सबसे अधिक जनसंख्या वाला नगर कौन-सा है?

उत्तर: टोक्यो

---

**Q27.** भारत में पहली पूर्ण जनगणना कब हुई?

उत्तर: 1881

---

**Q28.** दो प्राथमिक क्रियाएँ लिखिए।

उत्तर:

- कृषि
  - खनन
-

**Q29. व्यापार किस वर्ग की क्रिया है?**

उत्तर: तृतीयक क्रियाकलाप

---

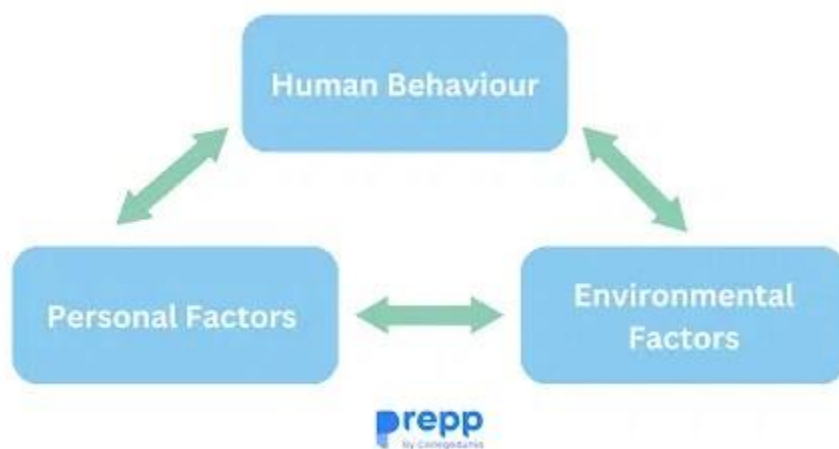
**Q30. 'भूरा हीरा' किस खनिज को कहा जाता है?**

उत्तर: लिग्नाइट (भूरा कोयला)

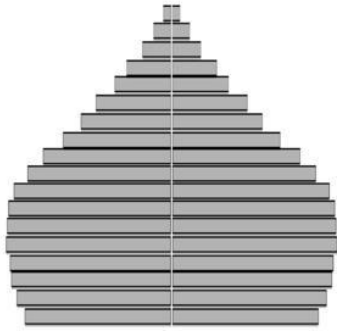
  **HBSE GEOGRAPHY REPETITION TREND (2021-2025)**

---

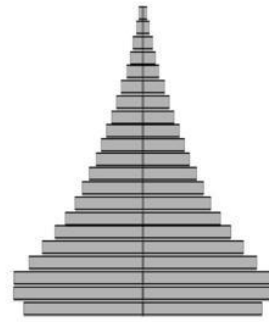
 **1. HUMAN GEOGRAPHY (MOST REPEATED )**



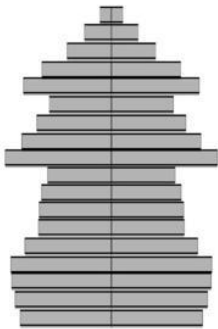
## POPULATION PYRAMID SHAPES



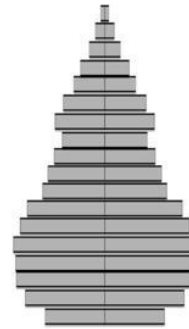
(A)



(B)




(C)



(D)

4

 बार-बार पूछे गए टॉपिक्स:

- **Neo-determinism** (ग्रिफिथ टेलर) → हर साल
- **Human Geography definition** → 3+ बार
- **HDI (0.7+)** → 2021, 2023, 2024
- **Population Pyramid** → बार-बार
- **Demographic Transition** → 2025

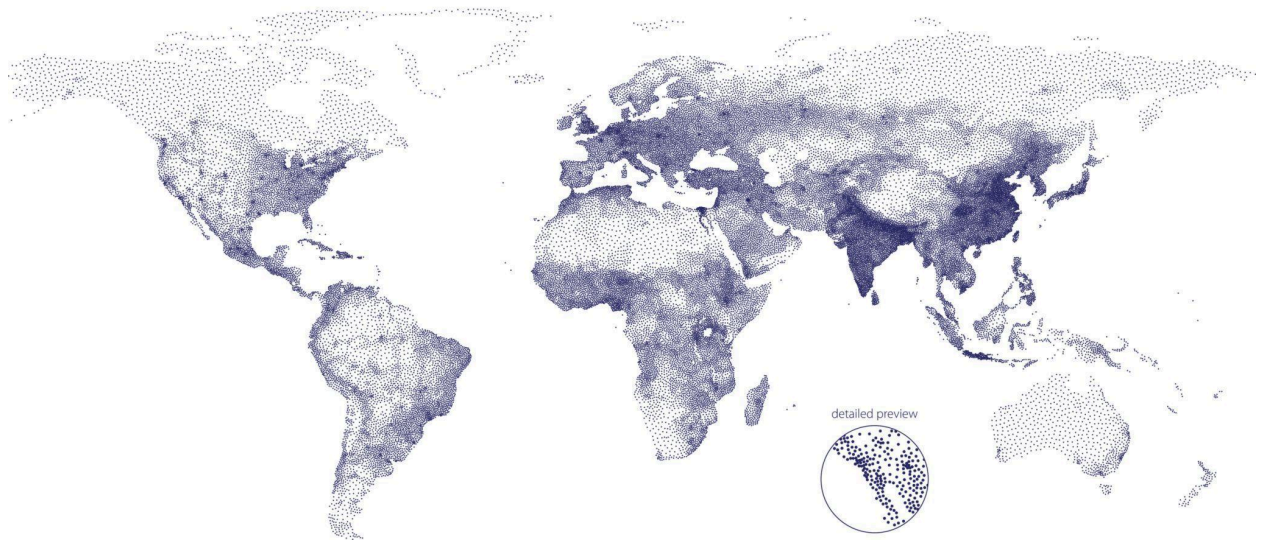
👉 Prediction 2026:

- ✓ HDI + Components
- ✓ Population Pyramid Diagram
- ✓ Neo-determinism (sure shot)

🌍 2. POPULATION & SETTLEMENT (VERY HOT 🔥)



## Global Population Density



4

🔄 बार-बार पूछा गया:

- Population Growth → Africa (हर साल)
- Urbanization effects
- Settlement types (Linear, Clustered)
- Rural vs Urban Difference

👉 Prediction 2026:

- ✓ Settlement diagram (Linear / Clustered)
- ✓ Urban problems (Slums, Pollution)
- ✓ Population density map

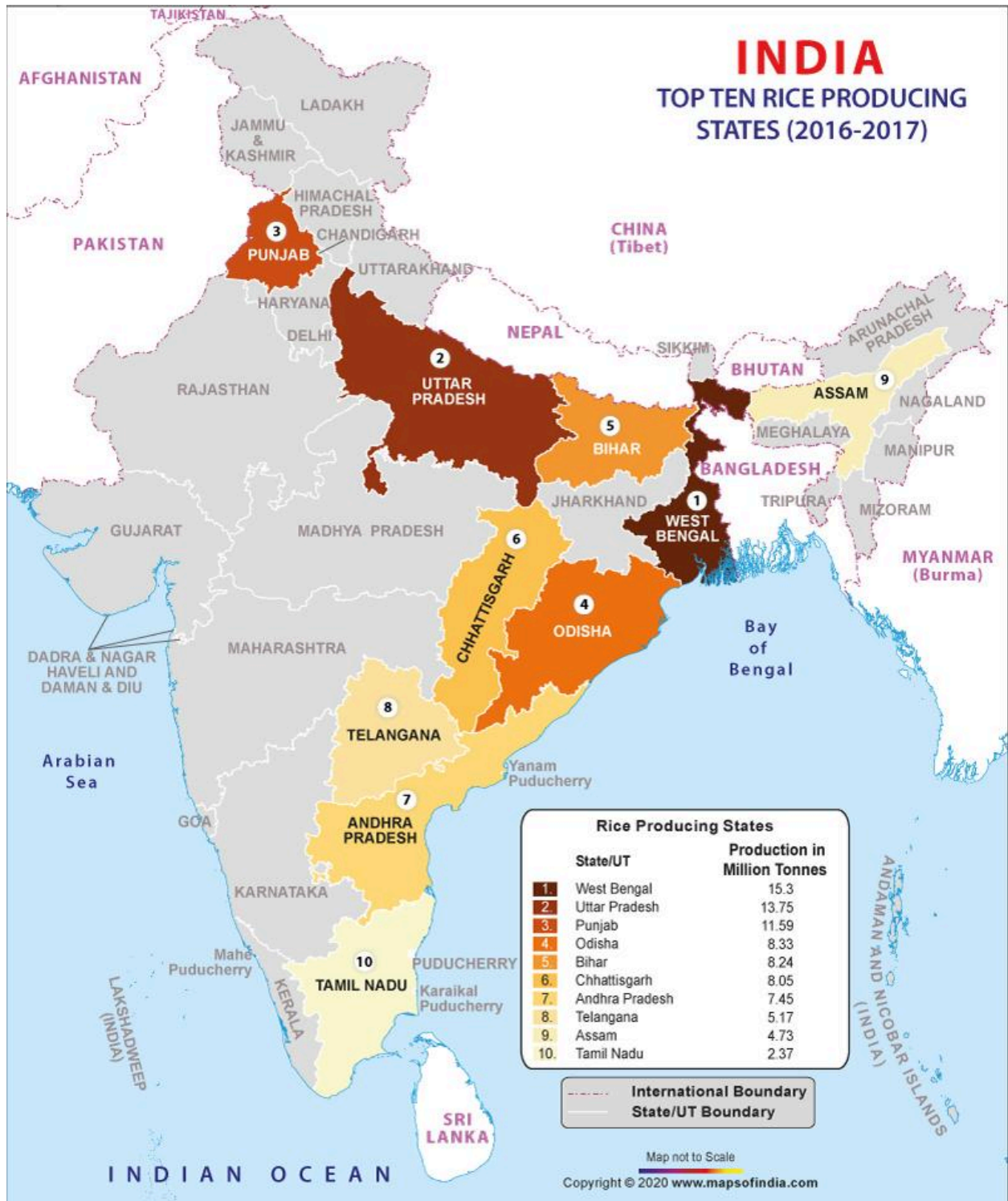
---

🌾 **3. AGRICULTURE (VERY IMPORTANT 🔥)**



# PURPOSE

Factors	Subsistence Farming	Commercial Farming
Land size	Small plot of land	Large plot of land
Labour type	Family members	Hired workers
Capital cost	Low capital input	High capital input
Types of fertilisers	Natural fertilisers	Chemical fertilisers
Tools/machines	Traditional tools/machines	High technology tools/machines
Level of technology	Low level	High level
Output	For own use	For sale



4



बार-बार पूछा गया:

- Plantation Agriculture → 2021, 2024, 2025

- Mixed vs Subsistence
- Rice cultivation conditions
- Shifting cultivation

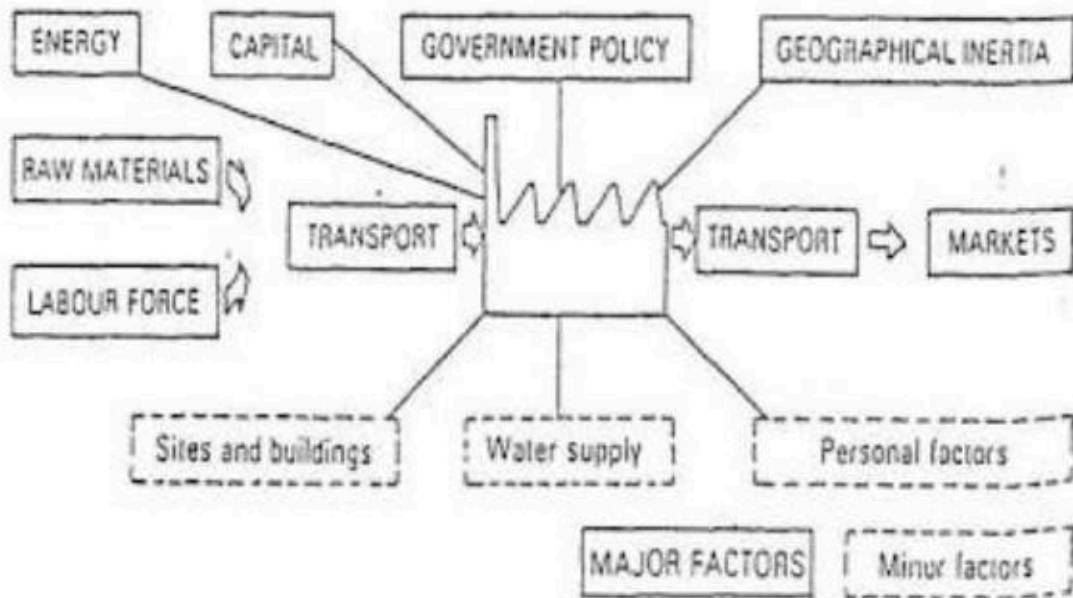
👉 Prediction 2026:

- ✓ Plantation (Definition + Features)
- ✓ Rice/Wheat Conditions (5 Marker)

---

🏠 4. INDUSTRY & RESOURCES (FIX QUESTIONS 🔥)

*Factors affecting industrial location*





## Renewable and Nonrenewable Resources

### renewable

Restore naturally at a rate comparable to human consumption



sunlight



crops



water



livestock



wind



trees

### nonrenewable

Exist in finite amounts or replenish over geological time spans



fossil fuels



minerals



nuclear fuels



metals




sand



topsoil

sciencenotes.org

4

 बार-बार पूछा गया:

- Industrial location factors → हर साल
- Aluminium industry = Power based
- Water as resource type
- Industrial pollution effects

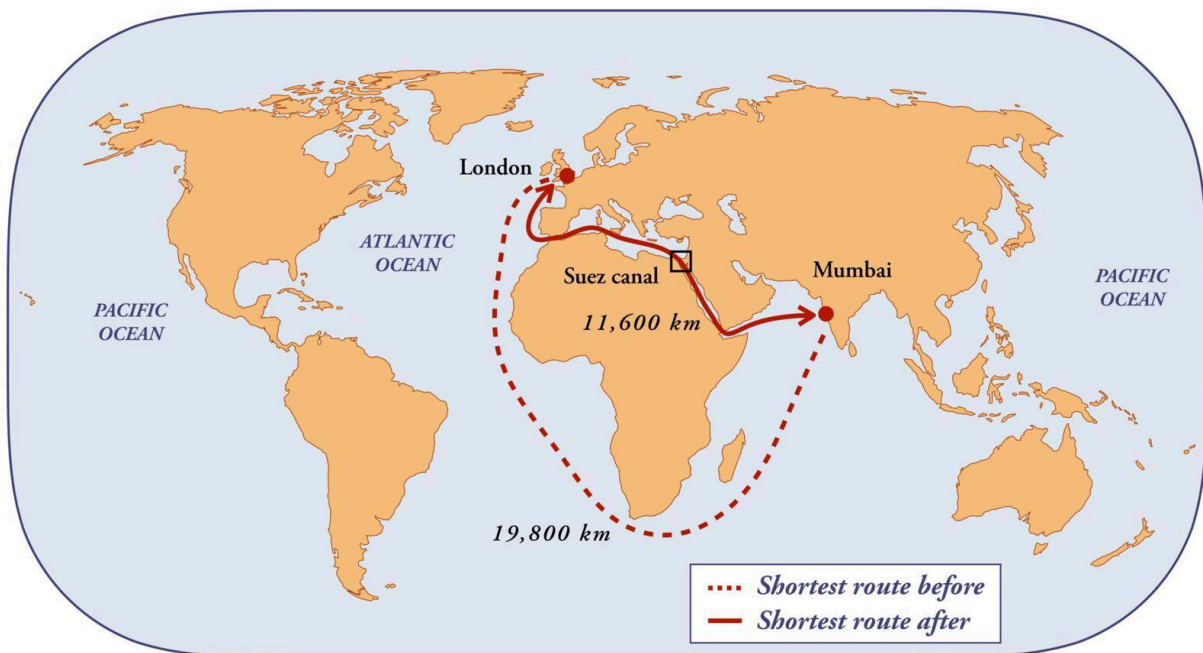
👉 Prediction 2026:

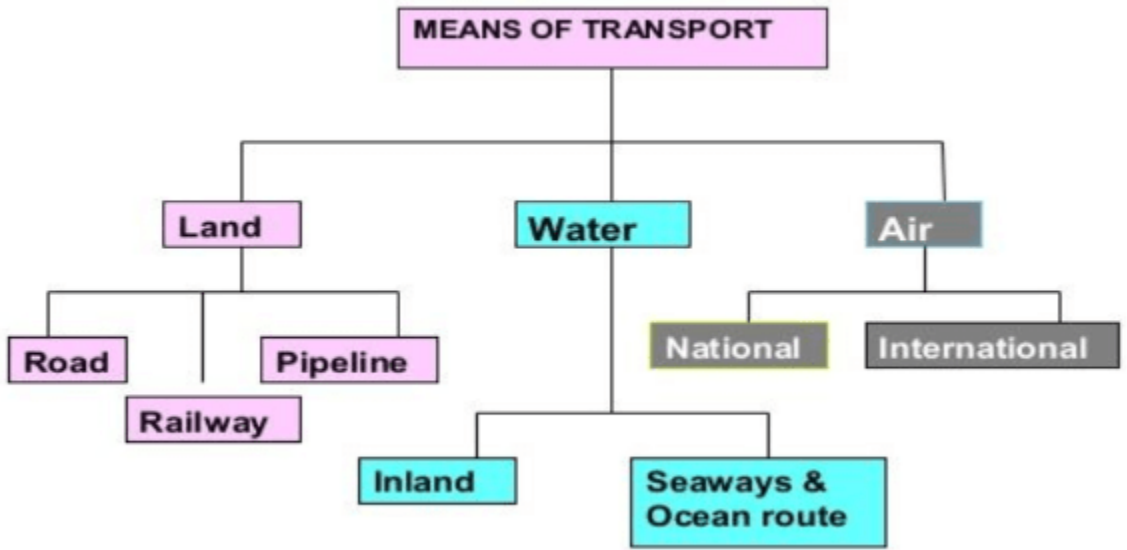
- ✓ Location factors (5 marker sure)
- ✓ Pollution + Control

---


 **5. TRANSPORT & TRADE (REPEAT ZONE 🔥)**

## The Suez Canal





4

 बार-बार पूछा गया:

- **Suez Canal Route** → 2023, 2025
- **Trade routes (North Atlantic)**
- **Transport types**
- **Tertiary activities = Service sector**

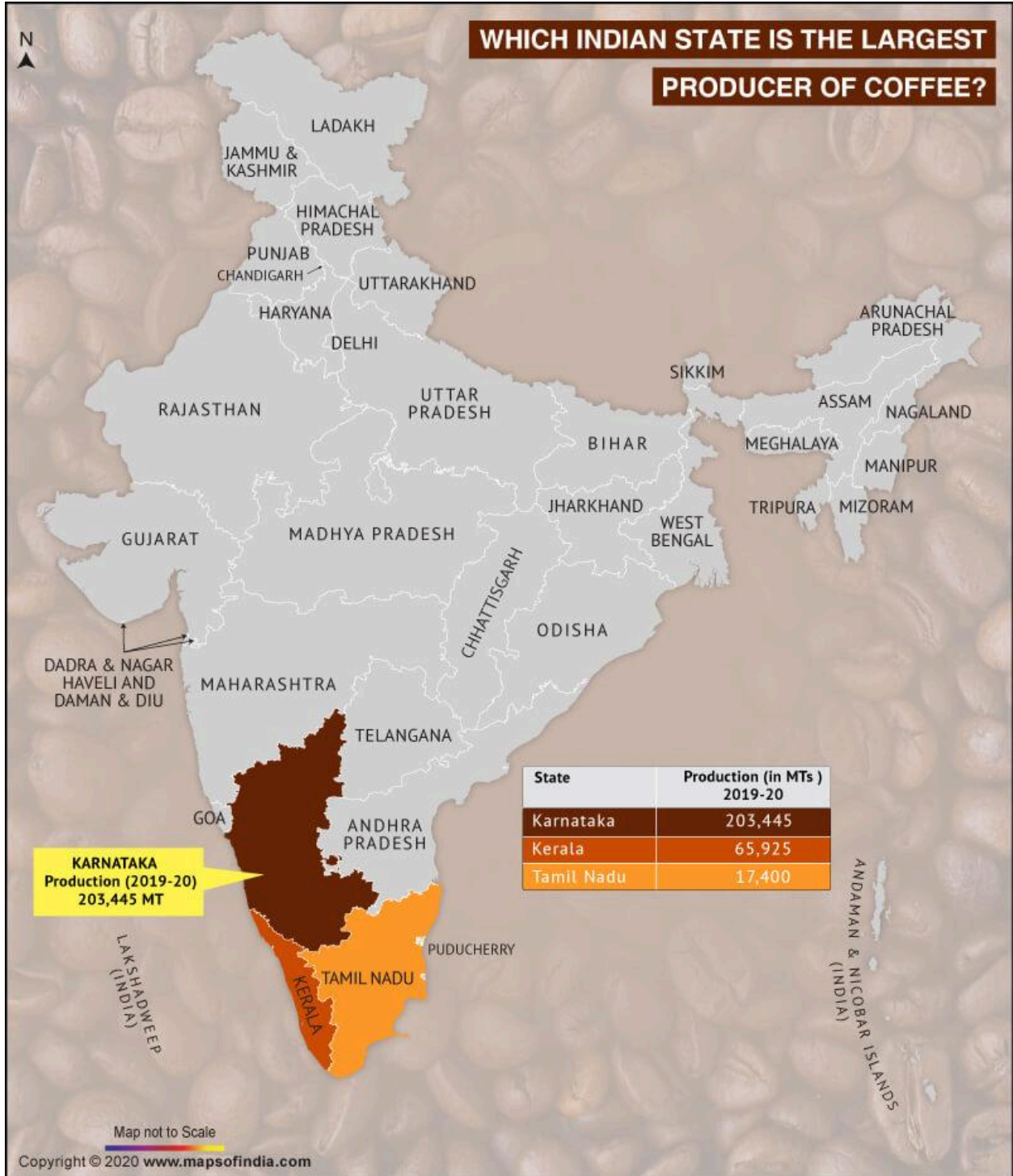
👉 **Prediction 2026:**

- ✓ Suez Canal (Note)
- ✓ Trade routes (Map + Theory)

---

 **6. MAP WORK (100% FIX 🔥)**

# WHICH INDIAN STATE IS THE LARGEST PRODUCER OF COFFEE?





## हर साल:





- Coffee → Karnataka
- Coal → Raniganj / Jharia
- Port → Kandla / Mumbai
- Density → Bihar

## Prediction 2026:

✓ SAME MAPS repeat होंगे 700

---

## FINAL REPETITION SUMMARY

Topic	Repetition Level
Neo-determinism	
Population Growth	
Plantation Agriculture	
Industrial Factors	
Trade Routes	

Map Work



50 MOST EXPECTED QUESTIONS (WITH ANSWERS)

HUMAN GEOGRAPHY (Q1-10)

---

**Q1. मानव भूगोल क्या है?**

उत्तर: मानव और पर्यावरण के पारस्परिक संबंधों का अध्ययन मानव भूगोल कहलाता है।

---

**Q2. नव-नियतिवाद क्या है?**

उत्तर: यह सिद्धांत बताता है कि प्रकृति सीमाएँ तय करती है और मानव उनके भीतर विकास करता है।

---

**Q3. नव-नियतिवाद के प्रवर्तक कौन थे?**

उत्तर: ग्रिफिथ टेलर

---

**Q4. संभाववाद क्या है?**

उत्तर: मानव अपनी तकनीक से प्रकृति को बदल सकता है।

---

**Q5. मानव विकास सूचकांक (HDI) क्या है?**

उत्तर: विकास मापने का सूचक (स्वास्थ्य + शिक्षा + आय)

---

**Q6. HDI के घटक लिखिए।**

👉 उत्तर: स्वास्थ्य, शिक्षा, आय

---

**Q7. जनांकिकीय संक्रमण के चरण लिखिए।**

👉 उत्तर: उच्च स्थिर, विस्तार, निम्न स्थिर

---

**Q8. जनसंख्या घनत्व क्या है?**

👉 उत्तर: प्रति वर्ग किमी जनसंख्या

---

**Q9. कार्यशील आयु वर्ग क्या है?**

👉 उत्तर: 15-64 वर्ष

---

**Q10. जनसंख्या पिरामिड क्या दर्शाता है?**

👉 उत्तर: आयु एवं लिंग संरचना

---

 **POPULATION & SETTLEMENT (Q11-20)**

---

**Q11. जनसंख्या वृद्धि का प्रमुख कारण क्या है?**

👉 उत्तर: उच्च जन्म दर

---

**Q12.** सबसे अधिक जनसंख्या वृद्धि वाला महाद्वीप कौन-सा है?

👉 उत्तर: अफ्रीका

---

**Q13.** नगरीकरण क्या है?

👉 उत्तर: ग्रामीण से शहरों की ओर जनसंख्या बढ़ना

---

**Q14.** नगरीकरण के दो प्रभाव लिखिए।

👉 उत्तर: रोजगार, प्रदूषण

---

**Q15.** सघन बस्ती क्या है?

👉 उत्तर: घर पास-पास होते हैं

---

**Q16.** रेखीय बस्ती क्या है?

👉 उत्तर: सड़क/नदी के किनारे विकसित बस्ती

---

**Q17.** ग्रामीण और नगरीय बस्ती में अंतर बताइए।

👉 उत्तर:

ग्रामीण = कृषि

नगरीय = उद्योग

---

**Q18.** जनसंख्या वितरण को प्रभावित करने वाले कारक लिखिए।

👉 उत्तर: जलवायु, संसाधन, रोजगार

---

**Q19.** जनसंख्या पिरामिड के प्रकार लिखिए।

👉 उत्तर: विस्तारित, स्थिर, संकुचित

---

**Q20.** सामाजिक ढाँचे के विकास हेतु कौन-सा संसाधन आवश्यक है?

👉 उत्तर: वित्तीय संसाधन

---

🌾 **AGRICULTURE (Q21–30)**

---

**Q21.** रोपण कृषि क्या है?

👉 उत्तर: बड़े क्षेत्र में एक ही फसल की खेती

---

**Q22.** रोपण कृषि की विशेषताएँ लिखिए।

👉 उत्तर: एक फसल, निर्यात, अधिक पूंजी

---

**Q23.** मिश्रित कृषि क्या है?

👉 उत्तर: फसल + पशुपालन

---

**Q24. जीविका कृषि क्या है?**

👉 उत्तर: स्वयं उपयोग हेतु खेती

---

**Q25. शिफ्टिंग कृषि क्या है?**

👉 उत्तर: स्थान बदलकर खेती करना

---

**Q26. चावल की कृषि के लिए आवश्यक दशाएँ लिखिए।**

👉 उत्तर:

तापमान 20–25°C, वर्षा अधिक

---

**Q27. गेहूँ की खेती के लिए दशाएँ लिखिए।**

👉 उत्तर:

ठंडा मौसम, कम वर्षा

---

**Q28. फूलों की खेती क्या कहलाती है?**

👉 उत्तर: पुष्पोत्पादन

---

**Q29. यूरोपियों द्वारा विकसित कृषि कौन-सी है?**

👉 उत्तर: रोपण कृषि

---

**Q30.** कृषि के आधुनिकीकरण के उपाय लिखिए।

👉 उत्तर: मशीनें, उन्नत बीज, सिंचाई

---

 **INDUSTRY & RESOURCES (Q31-40)**

---

**Q31.** उद्योगों का वर्गीकरण लिखिए।

👉 उत्तर: प्राथमिक, द्वितीयक, तृतीयक

---

**Q32.** तृतीयक क्रियाकलाप क्या हैं?

👉 उत्तर: सेवा क्षेत्र

---

**Q33.** चतुर्थक क्रियाकलाप क्या हैं?

👉 उत्तर: ज्ञान आधारित कार्य

---

**Q34.** औद्योगिक स्थान निर्धारण के कारक लिखिए।

👉 उत्तर: कच्चा माल, श्रम, ऊर्जा

---

**Q35.** एल्युमिनियम उद्योग कहाँ स्थापित होता है?

👉 उत्तर: ऊर्जा स्रोत के पास

---

**Q36. जल किस प्रकार का संसाधन है?**

👉 उत्तर: अजैव संसाधन

---

**Q37. संसाधन क्या हैं?**

👉 उत्तर: आवश्यकताओं की पूर्ति करने वाली वस्तुएँ

---

**Q38. औद्योगिक प्रदूषण के प्रभाव लिखिए।**

👉 उत्तर: वायु, जल प्रदूषण

---

**Q39. ऊर्जा के अपरंपरागत स्रोत लिखिए।**

👉 उत्तर: सौर, पवन

---

**Q40. ITDP क्या है?**

👉 उत्तर: समन्वित जनजातीय विकास कार्यक्रम

---

 **TRANSPORT & TRADE (Q41–50)**

---

**Q41. परिवहन के प्रकार लिखिए।**

👉 उत्तर: सड़क, रेल, जल, वायु

---

**Q42.** जल परिवहन के लाभ लिखिए।

👉 उत्तर: सस्ता, भारी वस्तु

---

**Q43.** स्वेज नहर का महत्व लिखिए।

👉 उत्तर: यूरोप-एशिया जोड़ती है

---

**Q44.** उत्तरी अटलांटिक मार्ग क्या है?

👉 उत्तर: प्रमुख व्यापार मार्ग

---

**Q45.** अंतरराष्ट्रीय व्यापार क्या है?

👉 उत्तर: देशों के बीच व्यापार

---

**Q46.** व्यापार के आधार लिखिए।

👉 उत्तर: संसाधन, मांग

---

**Q47.** सेवा क्षेत्र का महत्व लिखिए।

👉 उत्तर: रोजगार, विकास

---

**Q48.** भारत की पहली जनगणना कब हुई?

👉 उत्तर: 1881

---

**Q49.** विश्व का सबसे बड़ा जनसंख्या वाला नगर कौन-सा है?

👉 उत्तर: टोक्यो

---

**Q50.** 'भूरा हीरा' किसे कहा जाता है?

👉 उत्तर: लिग्नाइट

---

🎯 **FINAL GOLD SUMMARY**

👉 अगर student ये 50 Q कर ले:

✓ 70–80% पेपर यहीं से आएगा

✓ 80+ marks possible 100



## Methods of teaching Reading| Reading Strategies

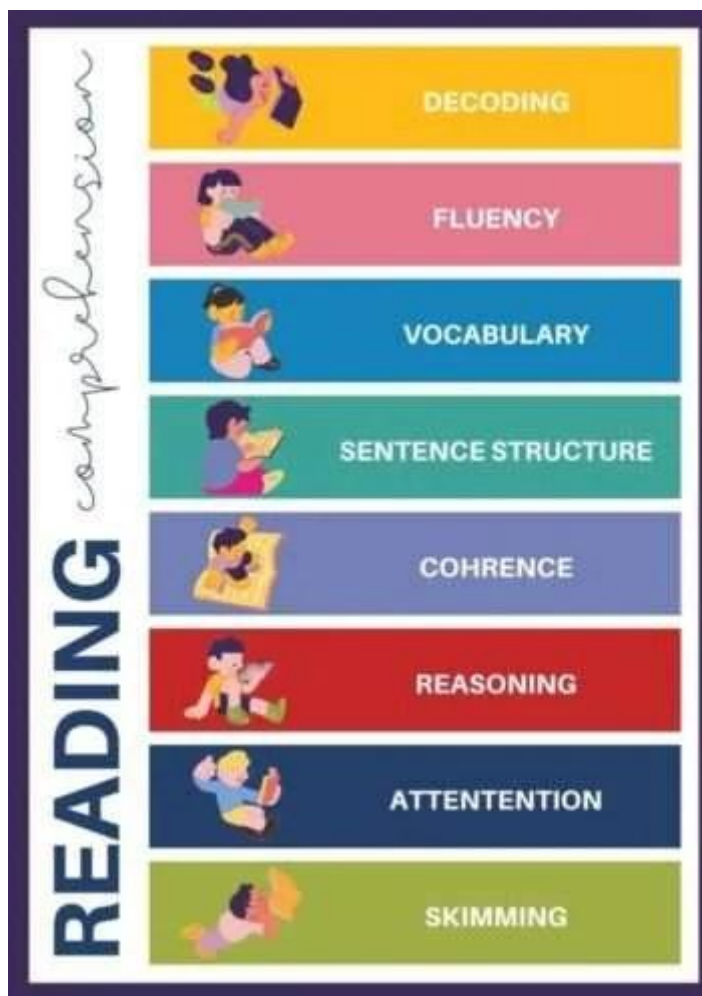
Education, Reading / By Principal Sir, M.S.Yadav / 5 April 2022

Methods of teaching Reading| Reading Strategies and there are different levels of students in any given class. Therefore, a teacher needs to assess each student's...



Exams Fear Among Students

Exams Fear Among Students as exams are commencing in March. There is a conflict between students, parents, and teachers. Exams are a year-long procedure that...



How do you develop reading habits among children at home? Does Reading develop Learning?

Education, Reading / By Principal Sir, M.S.Yadav / 9 April 2022

English Reading is the backbone of the education system and it is the base to excel in the life of a human being. Unfortunately, due...



7 Common Reading Errors and the Ultimate Guide to Correcting Reading Errors in Children and Adolescents!

Education, Reading / By Principal Sir, M.S.Yadav / 12 April 2022

7 Common Reading Errors and the Ultimate Guide to Correcting Reading Errors in Children and Adolescents! Reading errors in children and teens are a major...



New Sessions, New Hopes and Dreams: Tips for Students, Parents, and Teachers

Admission Hacks, Education / By Principal Sir, M.S.Yadav / 7 May 2022

It's time for new sessions, new hopes, and dreams for students, parents, and teachers when exam fever is gone. A new classroom with a new...

## Leave a Comment

Your email address will not be published. Required fields are marked \*

Type here..

Name\*

E-mail\*

Website

Save my name, email, and website in this browser for the next time I comment.

Notify me of follow-up comments by email.

Notify me of new posts by email.

## Latest Posts

► [Watch Explanation Video on @PrincipalSirOfficial](#)

[HBSE CLASS 12 GEOGRAPHY PYQs & Quick Revision 2026](#)

25 March 2026

[HBSE Class 12th हिन्दी \(कोर\) 2026 पूर्ण हल \(उत्तर\)](#)

24 March 2026

[HBSE हिंदी कोर 2026 व्याकरण | 100 MCQs](#)

21 March 2026

 **HBSE CLASS 12 HINDI CORE 100 FULL 200 MCQ PAPER**

20 March 2026

**HBSE Class 12 Psychology 2026 Paper SOLUTION**

20 March 2026

## **NCERT English**

**Class 12 English**

**Class 11 English**

**Class 10 English**

**Writing Skills**

**ReadLearnExcel's Complete NCERT Class 12 English  
(Core) Solution:Coming Soon**

Name(required)

**Warning**

Email(required)

**Warning**

## Contact Us

Name(required)

### Warning

Email(required)

### Warning

By submitting your information, you're giving us permission to email you. You may unsubscribe at any time.

## Subscribe

Search

Search

ReadLearnExcel

[Learn Together](#)

[Join RLE Mission](#)

[Contact Us](#)

Copyright © 2026 ReadLearnExcel

[About Us](#)

[Facebook](#)

[Twitter](#)

[Instagram](#)

[Linkedin](#)

[Frequently Asked Questions](#)